






BRAIN TEASERS

Els partits de futbol

Solució

Team		Won	Lost
Bobcats		5	5
Cheetahs		2	8
Lions		7	3
Panthers		6	4
Tigers		5	5

Explicació

- Mirant el gràfic es veu que només hi ha dos equips que han guanyat la mateixa quantitat de partits. Aquests dos equips han de ser els Tigers i els Bobcats i tots dos han guanyat cinc partits i han perdut altres cinc.
- Dels altres tres equips només un ha guanyat un partit més que un altre d'ells. Es tracta dels Lions i dels Panthers, els primers han d'haver guanyat set partits i els altres, sis.
- L'equip restant, els Cheetahs, han de ser l'equip que ha guanyat només dos partits.