


p	1	PENTOMINO	Organització d'espais
---	---	-----------	-----------------------



Intenta recobrir la quadrícula utilitzant un tipus de pentomino de manera que no quedin forats ni es superposin les peces.

Prova amb tots els pentominos i digues amb quins és possible de fer-ho.



Solució

Únicament es pot fer amb :



JORDI PAYRÓ
PERE JOAN VINÓS