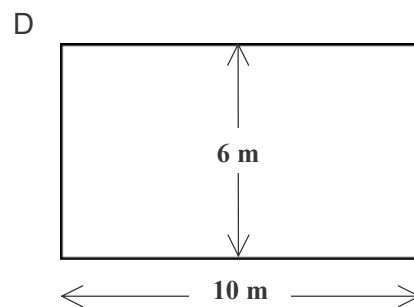
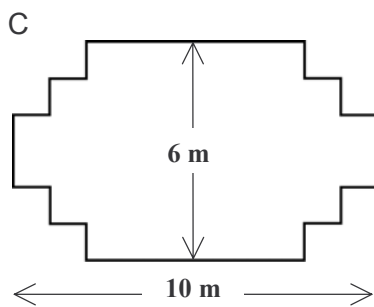
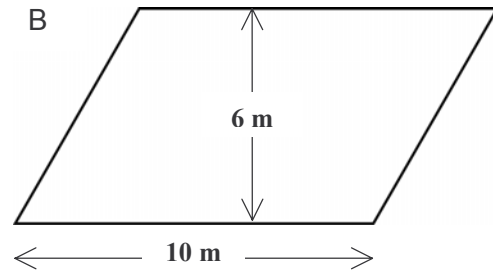
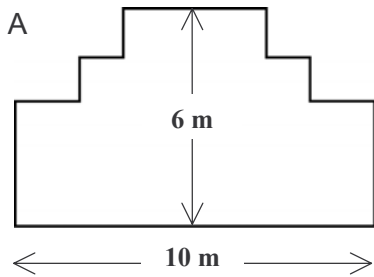


FUSTER

PREGUNTA 1: FUSTER

M266Q01

Un fuster té 32 metres de fusta i vol construir un parterre en el jardí. Per fer-ho, imagina els dissenys següents.



Encercla "sí" o "no" per a cada disseny per indicar si es pot tapiar o no el parterre amb els 32 metres de fusta.

Disseny del parterre	Amb aquest disseny es pot tapiar o no el parterre, amb els 32 metres de fusta?
Disseny A	<i>sí / no</i>
Disseny B	<i>sí / no</i>
Disseny C	<i>sí / no</i>
Disseny D	<i>sí / no</i>