



PROVA DE MÍNIMS DE MATEMÀTIQUES DE C.I.

NOM:

CURS:..... **DATA:**

1.- Dictat:

2.- Escriu el número del davant, del darrera i del mig.

__ 8 __ __ 19 __ __ 50 __
9 __ 11 2 9 __ 31 __ 81 __

3.- Col·loca els signes < > =

7 __ 9 15 __ 15 50 __ 60
20 __ 18 30 __ 24 72 __ 69

4.- Ordena de petit a gran utilitzant el signe <

25 -- 9 -- 38 -- 83 -- 52 -- 15 -- 90

5.- Segueix aquestes sèries:

0-2-4- _____ -30
25-30-35- _____ - 95
0-10-20- _____ - 90
50 - 49 - 48 - _____ - 0



CEIP TORRE LLAUDER

6.- Calcula:

$$\begin{array}{r} + 74 \\ 12 \\ \hline \end{array}$$

$$\begin{array}{r} + 54 \\ 39 \\ \hline \end{array}$$




$$\begin{array}{r} + 62 \\ 20 \\ \hline \end{array}$$

$$\begin{array}{r} - 53 \\ 11 \\ \hline \end{array}$$

$$\begin{array}{r} 41 \\ \times 2 \\ \hline \end{array}$$

$$\begin{array}{r} 27 \\ \times 2 \\ \hline \end{array}$$

7.- Fes una línia que talli per la meitat aquestes figures i després pinta la meitat de cadascuna.




8.- Relaciona:



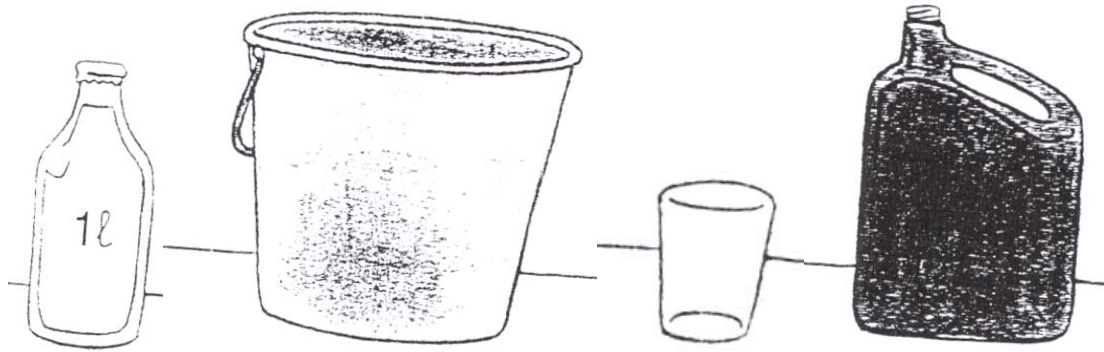
més d'un quilo

menys d'un quilo





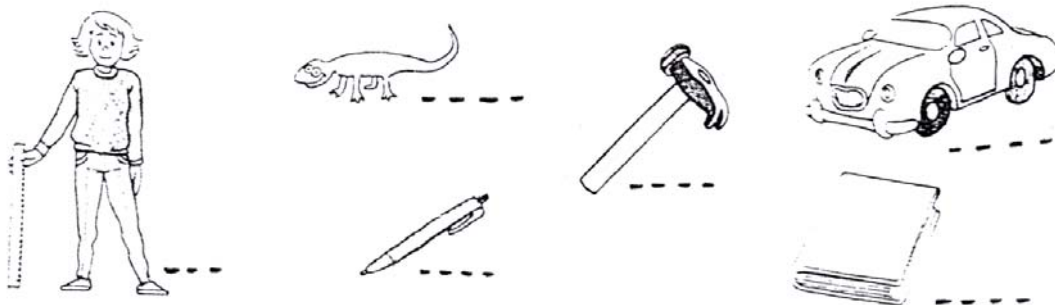
9.- Encercla el recipient on **no cap un litre**.



-- Encercla el recipient **on cap més d'un litre**:




10.- Fa més d'un metre? SI o NO.



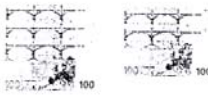


11.-Encercla les monedes que necessites per comprar els objectes dibuixats:

Dibuixa els diners que necessites:



545 euros

100 euros	10 euros	1 euro
		

..... de 100 euros → euros

..... de 10 euros → euros

..... d'1 euro → euros



705 euros

100 euros	10 euros	1 euro

..... de 100 euros → euros

..... de 10 euros → euros

..... d'1 euro → euro

12.- Completa:

* dilluns, dimarts i

* i divendres.

* divendres i diumenge.



13.- Dibuixa les següents figures:

quadrat

triangle

cercle

rectangle.


14.- Problemes de càlcul mental:

1	
2	
3	
4	
5	
6	
7	
8	
9	
10	



CEIP TORRE LLAUDER


15.- Resol els següents problemes:



El senyor Joan té 9  .

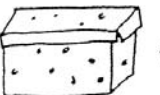

En ven 5.

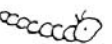
Quants  li quedaran?

Operació	Resposta
<input type="radio"/>	<input type="radio"/>
<input type="radio"/>	<input type="radio"/>




En una  tinc 8  .

A l'altra  tinc 7  .

Quants  tinc entre totes dues capses?

Operació	Resposta
<input type="radio"/>	<input type="radio"/>
<input type="radio"/>	<input type="radio"/>





CRITERIS D' AVALUACIÓ PROVA MÍNIMS - MATEMÀTIQUES C.I.

Observacions: Aquesta prova té caràcter d'observació i els punts atorgats no tenen validesa estadística.

NUMERACIÓ.

- 1.-----10 punts
- 2.-----10 "
- 3.-----6 "
- 4.-----7 + 1 pel signe = 8
- 5.-----4 punts total = 38 punts

OPERACIONS.

- 6.-----6 punts

FRACCIONS.

- 7.-----3 punts

MESURES

- 8.-----3 punts
- 9.-----2 "
- 10-----6 "
- 11-----3 "
- 12-----3 " TOTAL = 17 PUNTS

GEOMETRIA

- 13.-----4 punts

CÀLCUL MENTAL

- 14.-----10 punts.

PROBLEMES

- 15.-----2 punts.



PUNTUACIÓ DE LA PROVA DE MÍNIMS DE MATEMÀTIQUES DE C.I.

ALUMNE:

NIVELL:

CURS ESCOLAR:

CONTINGUTS	PUNTS TOTAL	OBSERVACIONS
NUMERACIÓ (EX. 1 al 5)	(38)	
OPERACIONS (Ex 6)	(6)	
FRACCIONS (EX.7)	(3)	
MESURES (EX 8 al 12)	(17)	
GEOMETRIA (EX. 13)	(4)	
CÀLCUL MENTAL (EX. 14)	(10)	
PROBLEMES (EX. 15)	(2)	



PROVES DE MÍNIMS DE MATEMÀTIQUES DE C.I.

(FULL DEL PROFESSOR)

1.-DICTAT.

15 - 80 - 75 - 23 - 99 -

54 - 62 - 97 -19 - 40 -

14.- PROBLEMES DE CÀLCUL MENTAL.

- 1.- La Núria té 11 caramels i en Pau n'hi regala 2 més. Quants caramels té ara?
(13)
- 2.- Si tens 11 pomes i te'n menges 4. Quantes te'n queden?
(7)
- 3.- Tinc 8 retoladors . Quants me'n falten per tenir-ne una desena?
(2)
- 4.- A la caixa vermella hi ha 5 mocadors, a la caixa groga també hi ha 5 i a la blava n'hi ha 2.
Quants mocadors hi ha entre les tres caixes?
(12)
- 5.- Tinc 2 bosses i a cada bossa tinc 3 caramels . Quants caramels hi ha entre les dues bosses?
(6)
- 6.- Quan comença a jugar ,en Pere té 5 cromos. Quan acaba en té el doble.
Quants en té ara?
(10)
- 7.- La Laura em regala 2 contes i en Pau cap. Quants contes m'han regalat?
(2)
- 8.- La Maria ha fet 7 problemes a classe. 3 estan bé . Quants en té de malament?
(4)
- 9.- He comprat 4 gomes i cada goma val 2 €. Quants euros m'he gastat?
(8)
10. A la Marta li van regalar un paquet amb 5 xiclets. Se'n menja 1. Quants xiclets li queden?
(4)