


GEOGRAFIA ESO



10

EUROPA

NOM _____

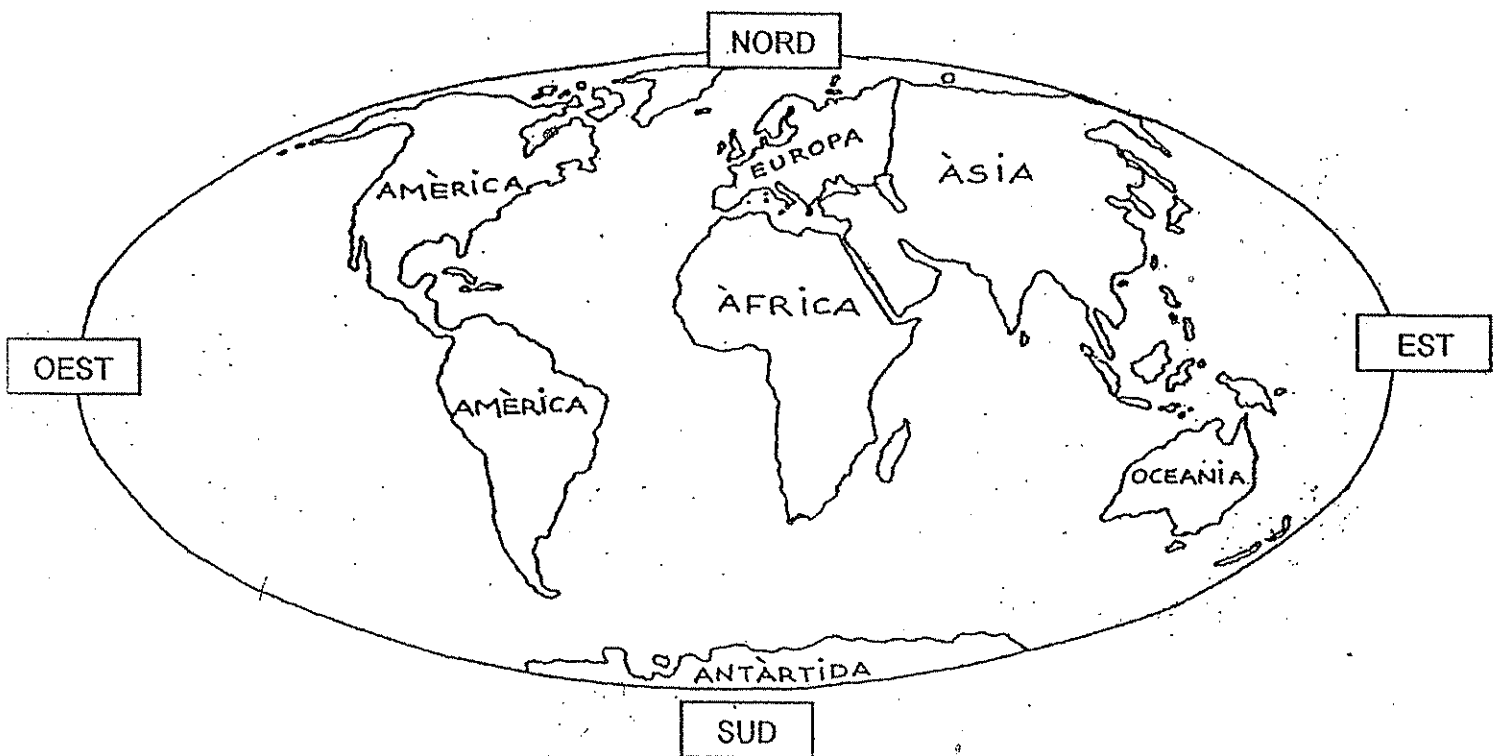
DATA _____

IES _____

EUROPA

ACTIVITATS

- ✓ Busca Europa a l'atles.
- ✓ Observa el planisferi i...
- 1. Ressegueix Europa i pinta-la de color vermell.
- 2. Situa l'Oceà Àrtic i l'Oceà Atlàntic.
- 3. Busca: la mar Mediterrània, la mar Negra i la mar Càspia. Pinta-les de color blau.



Europa és el continent on vivim nosaltres. És un continent petit. Té una extensió de 10400000 km².

Europa limita al nord amb l'oceà Àrtic
 al sud amb la mar Mediterrània i la mar Negra
 a l'est amb la serralada dels Urals i la mar Càspia
 a l'oest amb l'oceà Atlàntic

ACTIVITATS

4. Completa:

Europa està banyada per dos grans oceans: i
.....

Europa limita amb tres mars : la ,
la i la

Europa limita a l'est amb la serralada dels

5. Classifica els següents mots :

Mediterrània

Àfrica

Urals

Àrtic

Negra

Atlàntic

Europa

Càspia

Àsia

CONTINENTS

OCEANS

MARS

SERRALADES

.....

.....

.....

.....

.....

.....

.....

.....

.....

.....

.....

.....

6. Completa :

Els límits d'Europa:

al nord →

al sud →

a l'est →

a l'oest →

A Europa hi ha un gran nombre d'estats.
A tots els estats hi ha una ciutat que és la capital.
A la capital és on es troba el govern de l'estat.

✓ Aquí tens la llista de tots els estats i les capitals d'Europa.

CODIS NUMÈRICS

1 Europa occidental

2 Europa nòrdica

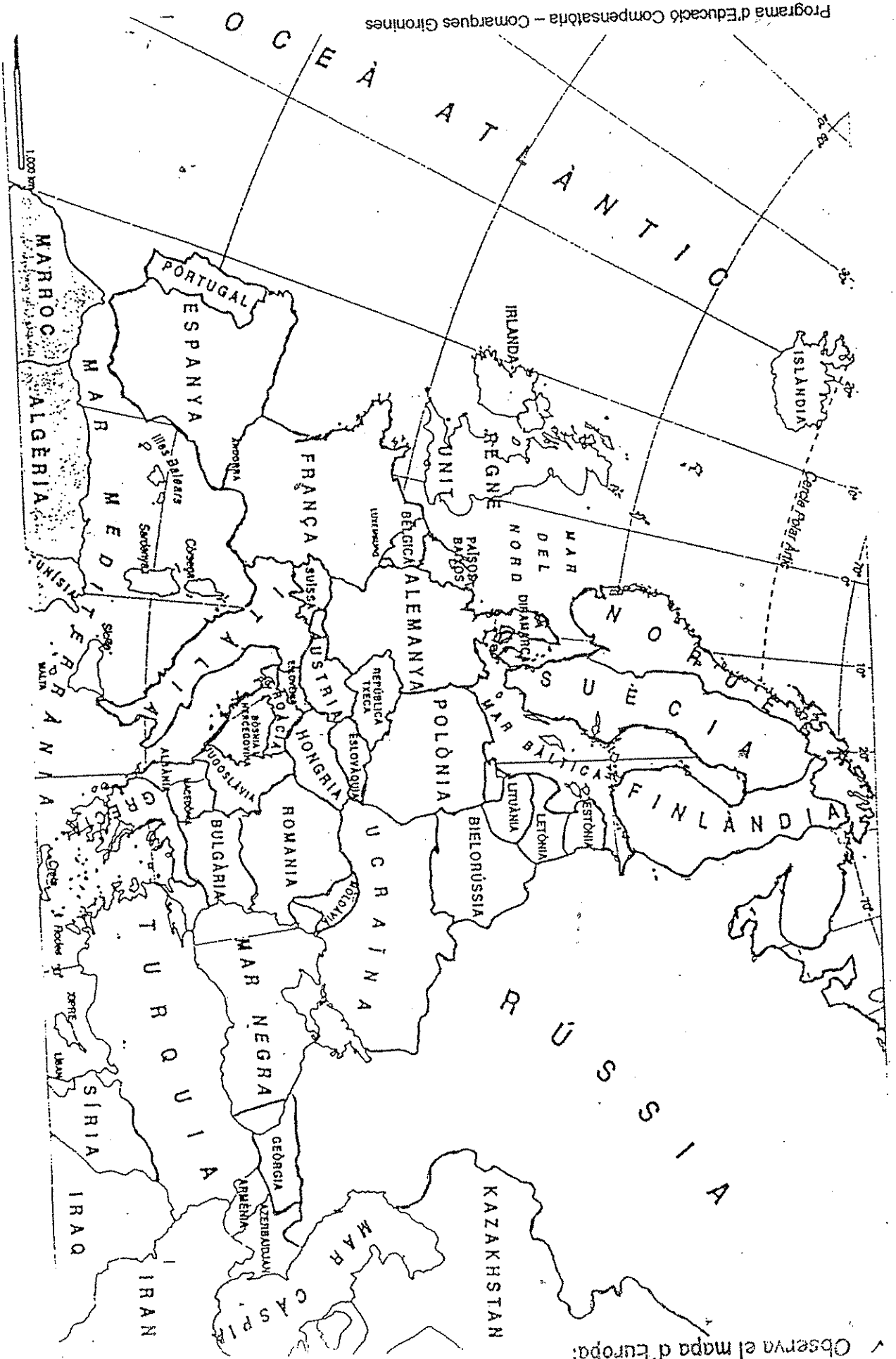
3 Europa central

4 Europa balcànica

5 Europa oriental

ESTATS I CAPITALS D'EUROPA		
NUM.	ESTAT	CAPITAL
4	Albània	Tirana
1	Alemanya	Berlín
1	Andorra	Andorra la Vella
5	Armènia	Erevan
3	Àustria	Vienna
5	Azerbaidjan	Bakú
1	Bèlgica	Brussel·les
5	Bielorússia	Minsk
4	Bòsnia-Hercegovina	Sarajevo
4	Bulgària	Sofia
1	Ciutat del Vaticà	Ciutat del Vaticà
4	Croàcia	Zagreb
2	Dinamarca	Copenhaguen
3	Eslovàquia	Bratislava
4	Eslovènia	Ljubljana
1	Espanya	Madrid
5	Estònia	Tallin
2	Finlàndia	Hèlsinki
1	França	París
5	Geòrgia	Tbilisi
4	Grècia	Atenes
4	Hongria	Budapest
1	Irlanda	Dublín
2	Islàndia	Reykjavík
1	Itàlia	Roma
4	Iugoslàvia	Belgrad
5	Letònia	Riga
3	Liechtenstein	Vaduz
5	Lituània	Vilnius
1	Luxemburg	Luxemburg
4	Macedònia	Skopje
1	Malta	La Valletta
5	Moldàvia	Chisinau
1	Mònaco	Mònaco
2	Noruega	Oslo
1	Països Baixos	Amsterdam
3	Polònia	Varsòvia
1	Portugal	Lisboa
1	Regne Unit / Gran Bretanya	Londres
4	Romania	Bucarest
5	Rússia	Moscú
1	San Marino	San Marino
2	Suècia	Estocolm
3	Suïssa	Berna
3	Txèquia / República Txeca	Praga
5	Ucraïna	Kiev
5	Xipre	Nicòsia

✓ Observa el mapa d'Europa:



ACTIVITATS:

- ✓ Ara treballaràs amb el mapa de la pàgina següent:
7. Pinta de color blau la Mar Mediterrània, la Mar Negra i la Mar Càspia.
8. Localitza i pinta al mapa el següents estats europeus, segons el codi següent:

Verd : Europa Occidental

Vermell : Europa Nòrdica

Groc: Europa Central

Marró: Europa Balcànica

Taronja : Europa Oriental

Espanya

Portugal

França

Andorra

Bèlgica

Països Baixos

Romania

Alemanya

Itàlia

Suïssa

Àustria

Regne Unit

Irlanda

Dinamarca

Suècia

Noruega

Finlàndia

Grècia

Polònia

Rússia

Ucraïna

República Txeca

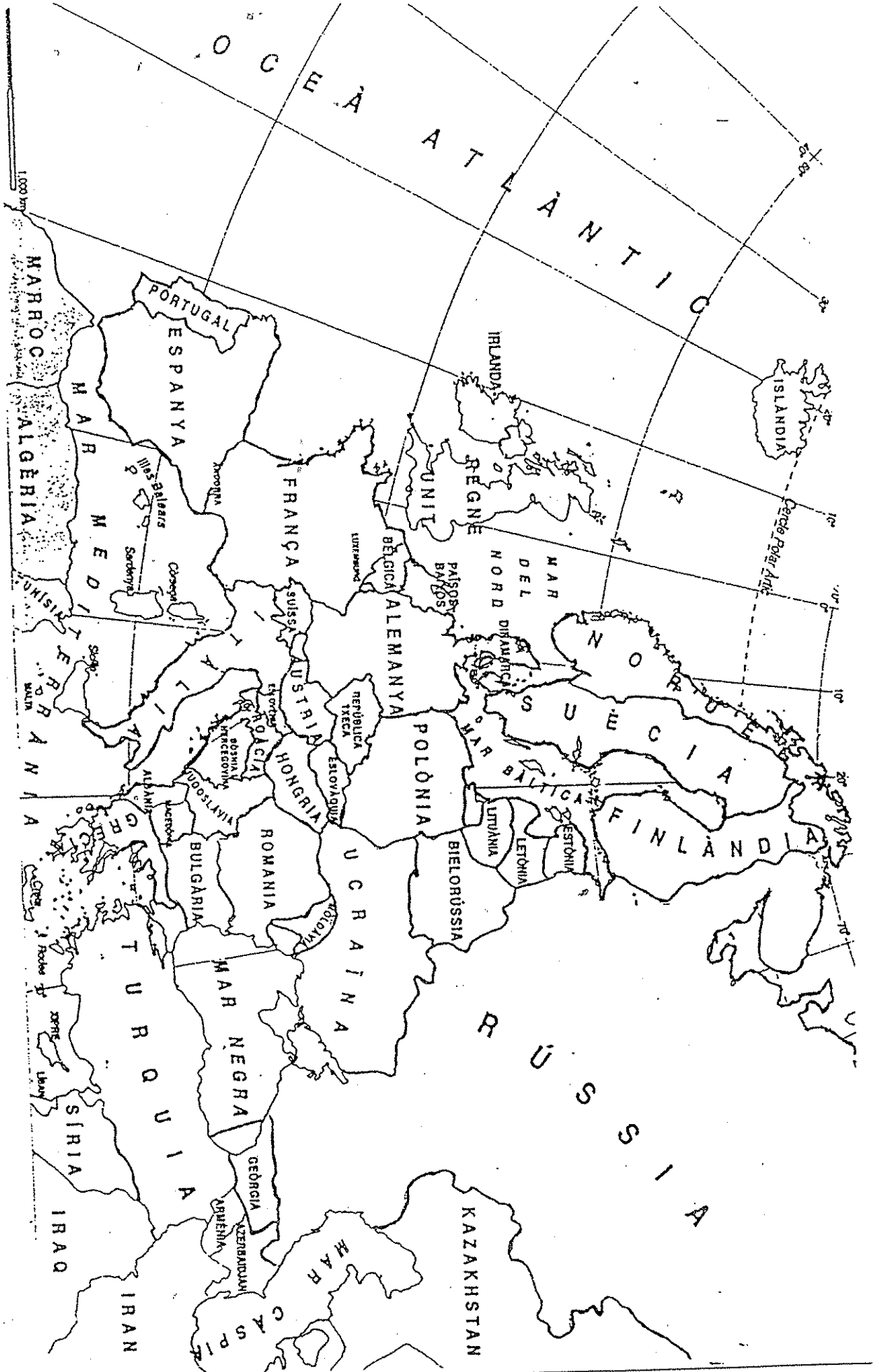
9. Escribeu al costat de cada país del llistat anterior la seva capital.
10. Amb l'ajuda de l'atles, busca on es troben aquestes capitals i situa-les al mapa.

11. Quins estats són els més petits? I quins són els més grans?

12. Digues el nom de 2 països i les seves capitals de l'Europa Occidental i l'Europa Central.

13. Quins països hi ha al costat d'Espanya?

13. Digues el nom de 2 països i les seves capitals de l'Europa Nòrdica, l'Europa Oriental i l'Europa Balcànica.



15. S'han escapat algunes lletres en els següents estats europeus. Busca-les:

P _ _ _ _ _ L

E _ _ _ _ A

I _ _ _ A

F _ _ _ Ç _

A _ _ _ _ A

U _ _ _ N _

R _ _ _ _ U _ _ _

G _ _ _ A

R _ _ S _ _

P _ _ _ _ A

16. Relaciona cada estat amb la seva capital:

Espanya

Moscou

Portugal

Roma

França

Madrid

Alemanya

Varsòvia

Itàlia

Berlín

Regne Unit

París

Grècia

Kíev

Rússia

Atenes

Polònia

Londres

Ucraïna

Lisboa

17. Contesta:

- Quins estats limiten amb la Mediterrània?

- Quins estats limiten amb l'Oceà Atlàntic?

- Quins estats es troben al nord d'Europa?

18. Classifica:

Rússia	Alemanya	Roma	Espanya
Lisboa	Grècia	Estocolm	Ucraïna
Londres	Noruega	Irlanda	Brusel·les
Andorra la Vella	París		

ESTATS

.....

.....

.....

.....

.....

.....

.....

CAPITALS

.....

.....

.....

.....

.....

.....

.....

19. Marca amb una X quins dels següents noms corresponen a continents de la terra:

Àfrica	Londres	Mediterrània
Amèrica	Oceania	Europa
Ucraïna	Àsia	Antàrtida

20. Marca amb una X quins dels noms següents corresponen als oceans de la terra:

Pacífic	Atlàntic	Càspia
Noruega	Índic	Roig
Mediterrània	Àrtic	Madrid

21. Marca la resposta correcta:

- La capital de França és ...

a) París

b) Roma

c) Londres

- "Negra" és el nom ...

a) d'un oceà

b) d'un mar

c) d'una capital

- Moscou és la capital de ...

a) Ucraïna

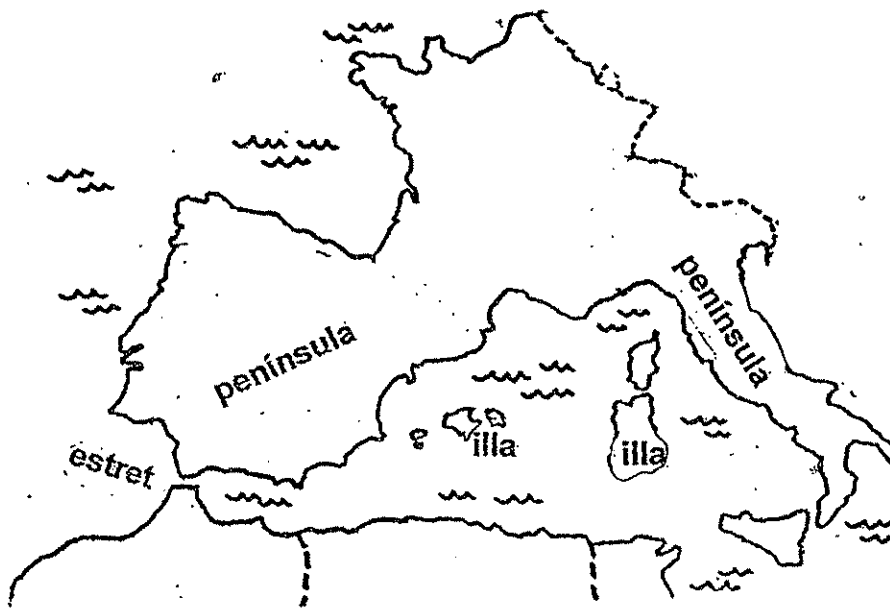
b) Noruega

c) Rússia

EUROPA FÍSICA

EL LITORAL EUROPEU:

- península → terra envoltada d'aigua per totes bandes menys per una. La part que no està envoltada d'aigua és la que la uneix al continent.
- illa → terra envoltada d'aigua per totes bandes.
- estret → pas de poca amplada situat entre dos terres. A través de l'estret es comunica un mar amb l'altre.



Europa té

- al nord: la gran península d'Escandinàvia i les més petites de Kola i Jutlàndia.
- al sud: 3 penínsules; la península Ibèrica, la península Itàlica i la península Balcànica.

En el litoral europeu podem trobar diverses illes. Les més importants són:

- Islàndia, Gran Bretanya i Irlanda, a l'oceà Atlàntic
- Les Illes Balears, Còrsega, Sardenya i Sicília, a la mar Mediterrània.

Alguns mars d'Europa:

Mar del Nord
Mar Bàltica
Mar Cantàbrica

Mar Negra
Mar Càspia
Mar Mediterrània

ACTIVITATS:

22. Ara completaràs el mapa mut d'Europa de la pàgina següent:

- Escriu el nom de les penínsules:

P₁: Península Ibèrica

P₂: Península Itàlica

P₃: Península Balcànica

P₄: Península Escandinava

P₅: Península de Kola

P₆: Península de Jutlàndia

- Escriu el nom de les illes. Pinta-les.

I₁: Illes Balears

I₂: Còrsega

I₃: Sardenya

I₄: Sicília

MAR
MEDITERRÀNIA

I₅: Islàndia

I₆: Gran Bretanya

I₇: Irlanda

OCEÀ
ATLÀNTIC

- Pinta i escriu els noms dels mars.

M₁: Mar Cantàbrica

M₂: Mar Mediterrània

M₃: Mar Negra

M₄: Mar Càspia

M₅: Mar del Nord

M₆: Mar Bàltica

- Ara situa:

- l'oceà Glacial Àrtic

- l'oceà Atlàntic

- Busca on és l'estret de Gibraltar. Situa'l.

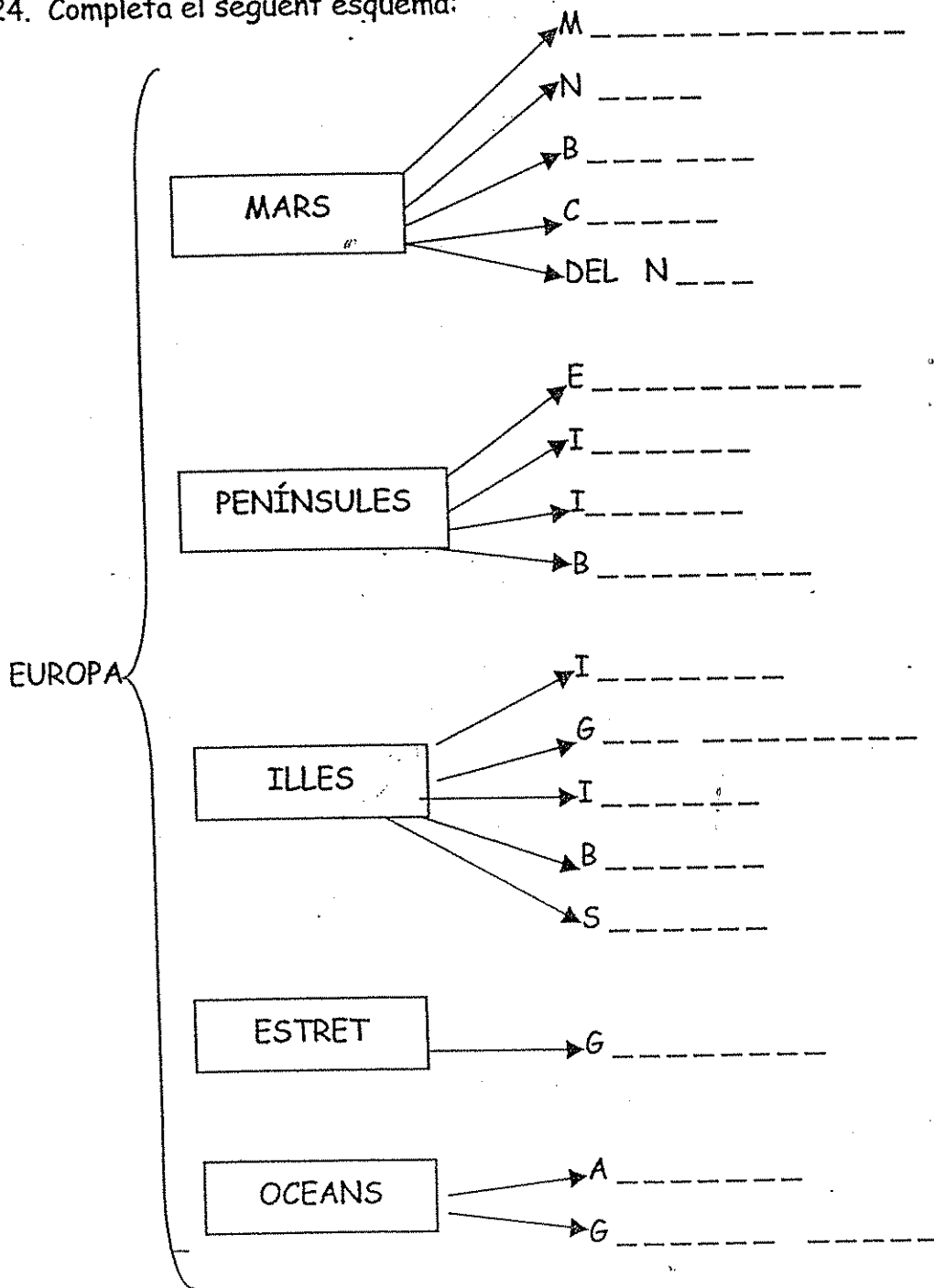
- Busca on és el Canal de la Mànega. Situa'l.



23. Aparella cada paraula amb la seva definició.

- | | |
|-----------|--|
| península | terra envoltada d'aigua per totes bandes |
| illa | pas de poca amplada situat entre dues terres |
| estret | terra envoltada d'aigua per totes bandes menys per una |

24. Completa el següent esquema:



A Europa hi predominen les **planes**, però també hi ha **serralades** importants.

plana —————> terreny planer força extens que no té muntanyes

serralada —————> conjunt llarg de muntanyes situades unes al costat de les altres

SERRALADES EUROPEES IMPORTANTS

- el Caucas
- els Alps
- els Pirineus
- els Urals
- els Carpats

A Europa hi ha 2 **pics** de gran alçada:

- l'**Aneto** (3404 metres), als Pirineus
- el **Montblanc** (4810 metres), als

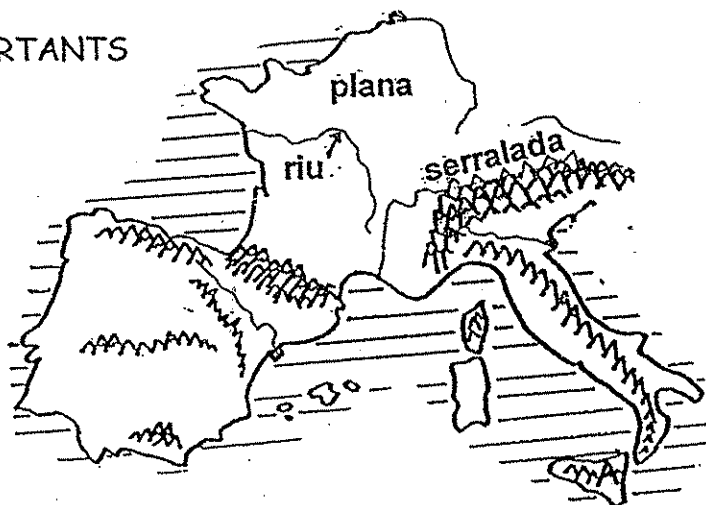
Molts **rius** travessen el continent europeu.

N'hi ha que duen molta aigua i, fins i tot, alguns són navegables, com el Rin, el Danubi i el Volga.

riu —————> corrent d'aigua que va a parar a un altre riu, a un llac o al mar.

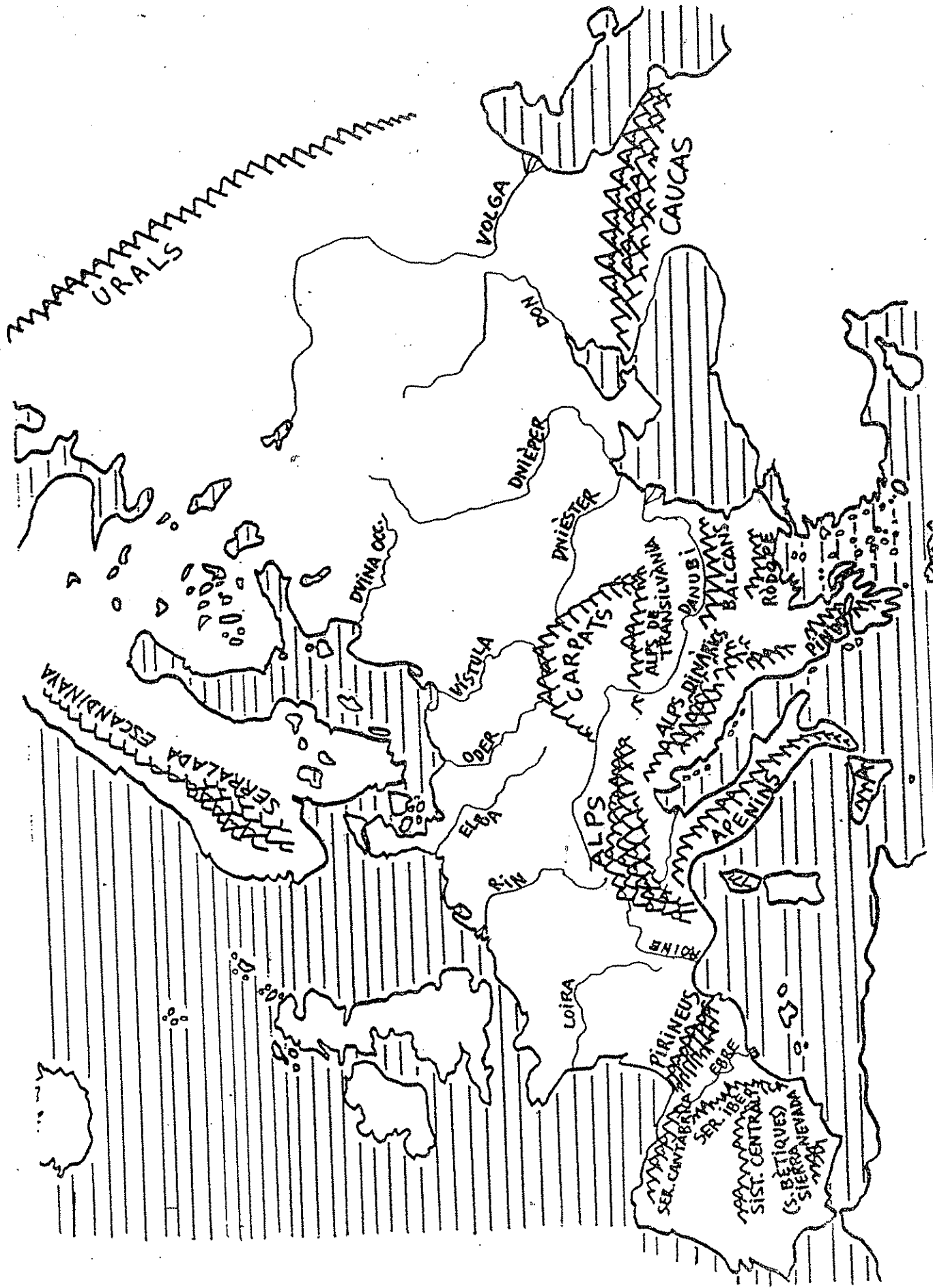
RIUS EUROPEUS MÉS IMPORTANTS

- L'Ebre
- el Rin
- el Danubi
- el Volga



ACTIVITATS :

25. Observa el mapa de la pàgina següent amb el relleu i els rius d'Europa.
26. Pinta de color blau els rius Ebre, Rin, Danubi i Volga.
27. Pinta les serralades: el Caucas, els Alps, els Pirineus, els Urals i els Carpats.
28. Amb l'ajuda d'un atlas, situa el pic de l'Aneto i el Montblanc.



29. Completa les següents definicions:

plana: terreny força extens que no té

serralada: conjunt llarg de situades unes al costat de les altres.

riu: corrent d' que va a parar a un altre, a un llac o al

Els rius, sovint, **desemboquen** al mar, és a dir, van a parar al mar, acaben al mar.

30. Busca al mapa de la pàgina anterior a quin mar desemboquen:

- l'Ebre →
- el Danubi →
- el Loira →
- el Roine →

31. Què vol dir que alguns rius són navegables?

.....

32. Digues el nom de 3 rius navegables.

.....

33. Digues el nom d'un riu que passi per Espanya i un que passi per França.

.....

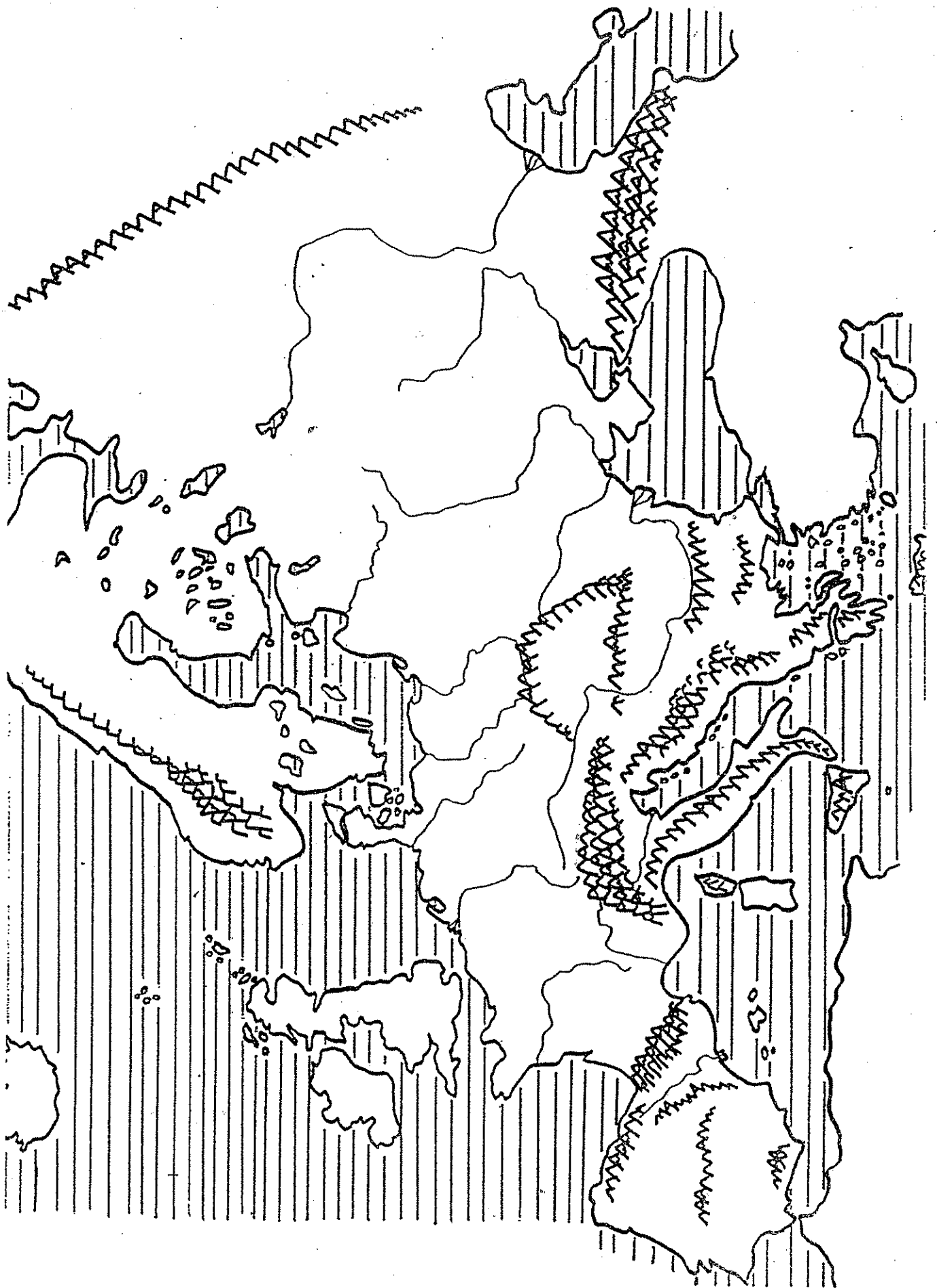
34. Completa :

El pic de l'Aneto es troba a la serralada dels

El pic del Montblanc es troba a la serralada dels

El pic del és més alt que l'

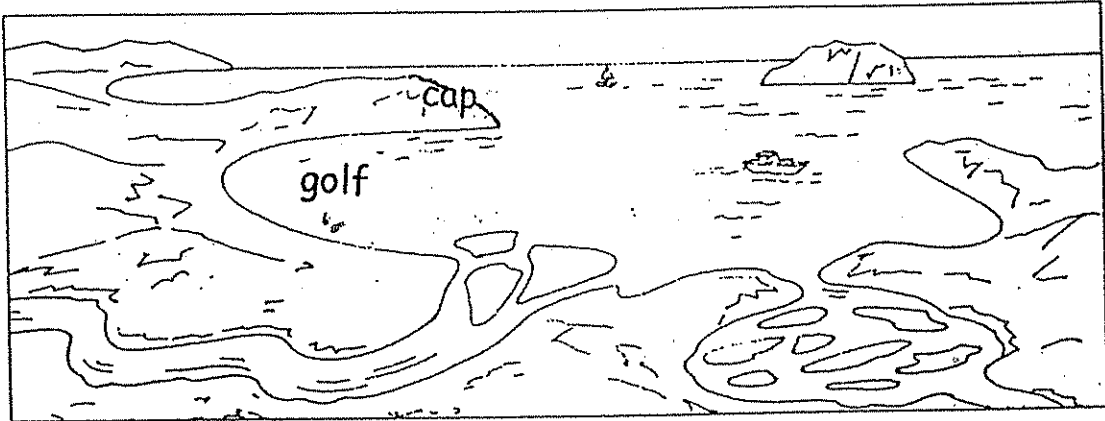
35. En el mapa mut de la pàgina següent situa les serralades i els rius europeus més importants.



Saps què vol dir ?

cap → part de terra que s'endinsa en el mar

golf → part de mar que entra dins la terra



36. Assenyala al mapa el Cap de Finisterre i el Golf de Lleó.

