


GEOGRAFIA ESO



9

ESPANYA

NOM _____

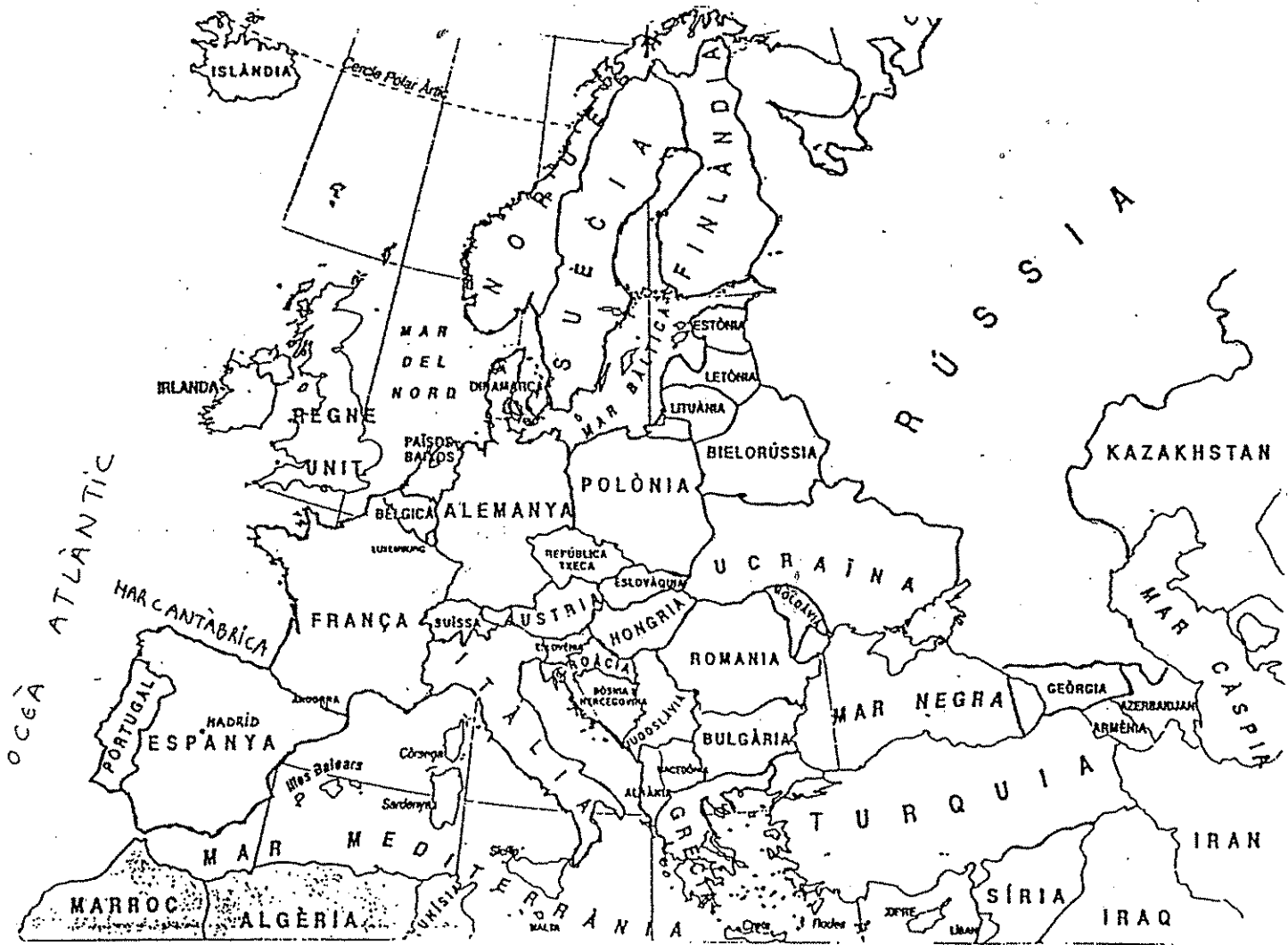
DATA _____

IES _____

ESPANYA

ACTIVITATS

1. Observa el mapa d'Europa i pinta Espanya.
2. Pinta la Mar Mediterrània, l'Oceà Atlàntic i la Mar Cantàbrica.
3. Assenyala la capital d'Espanya (Madrid).
4. Ressegueix Portugal i França.

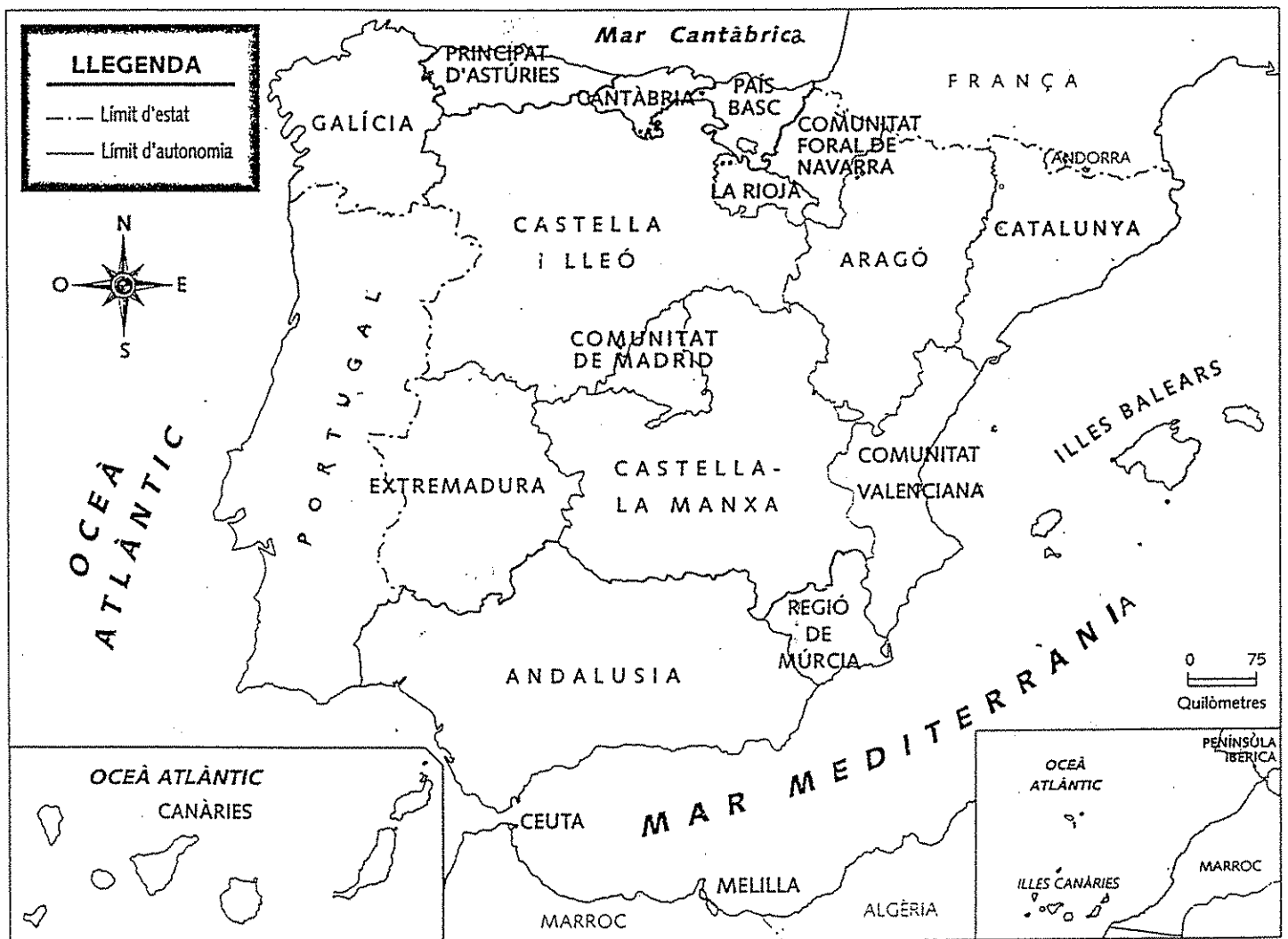


L'Estat Espanyol està format per 17 comunitats autònomes i les ciutats de Ceuta i Melilla.

Les comunitats autònomes poden estar formades per una província o per més d'una.

Algunes comunitats han dividit les províncies en diferents comarques.

✓ Observa el mapa de les comunitats autònomes:



ACTIVITATS

5. Treballa amb el mapa de la pàgina anterior:

- ✓ Pinta d'un color diferent cada comunitat autònoma.
- ✓ Deixa en blanc la comunitat on vius ara.
- ✓ Escribeu el nom dels 4 punts cardinals:

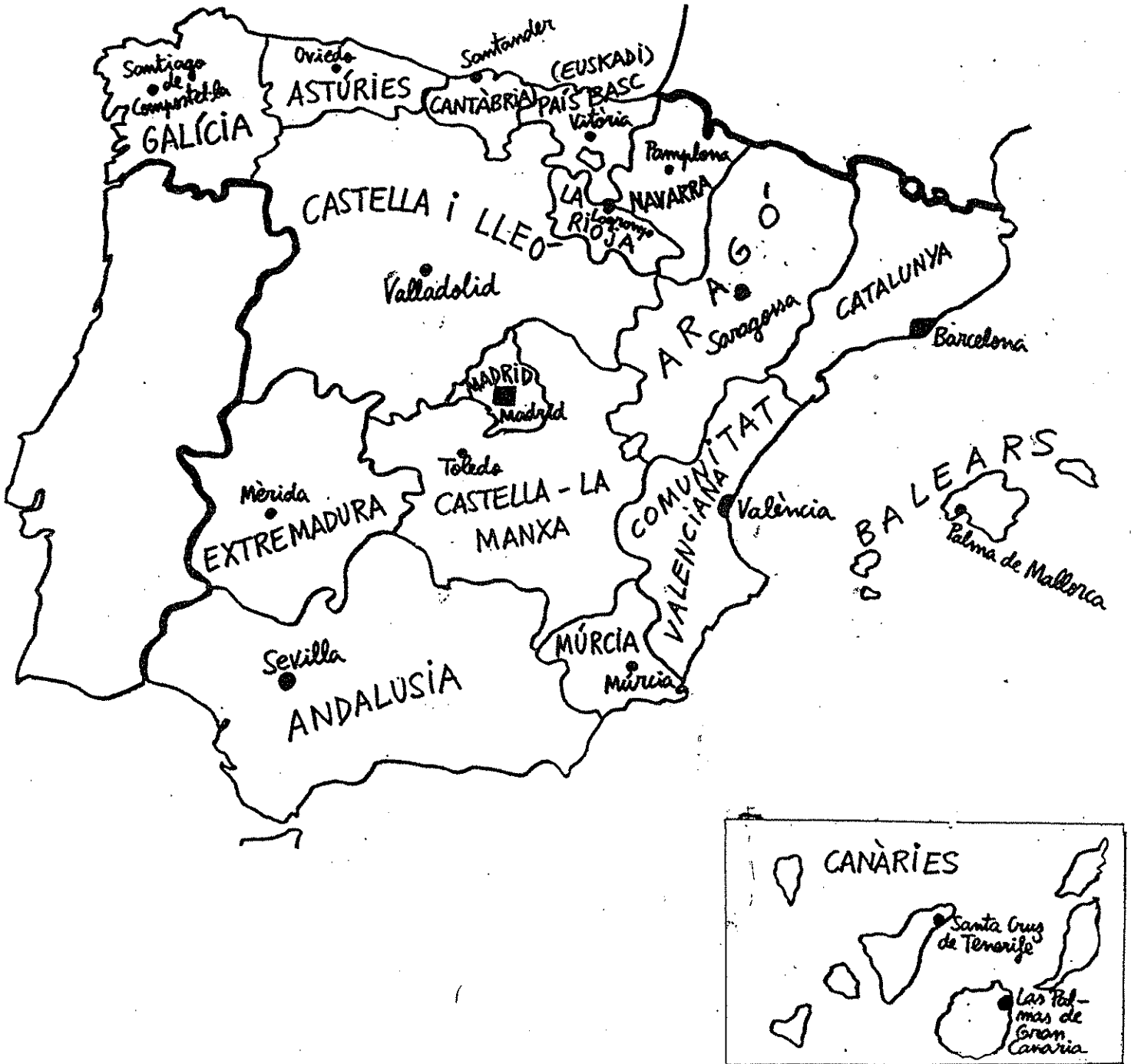
Nord, _____, _____ i _____.

- ✓ Quina comunitat autònoma es troba situada més al sud?
- ✓ Quina comunitat autònoma es troba situada més a l'est?
- ✓ La comunitat on vius ara es troba a la meitat nord de l'estat espanyol o a la meitat sud?
- ✓ En quina comunitat autònoma es troba la capital d'Espanya?
- ✓ Quines comunitats autònomes tenen costa a la Mar Mediterrània?
- ✓ Quines comunitats autònomes tenen costa a la Mar Cantàbrica?

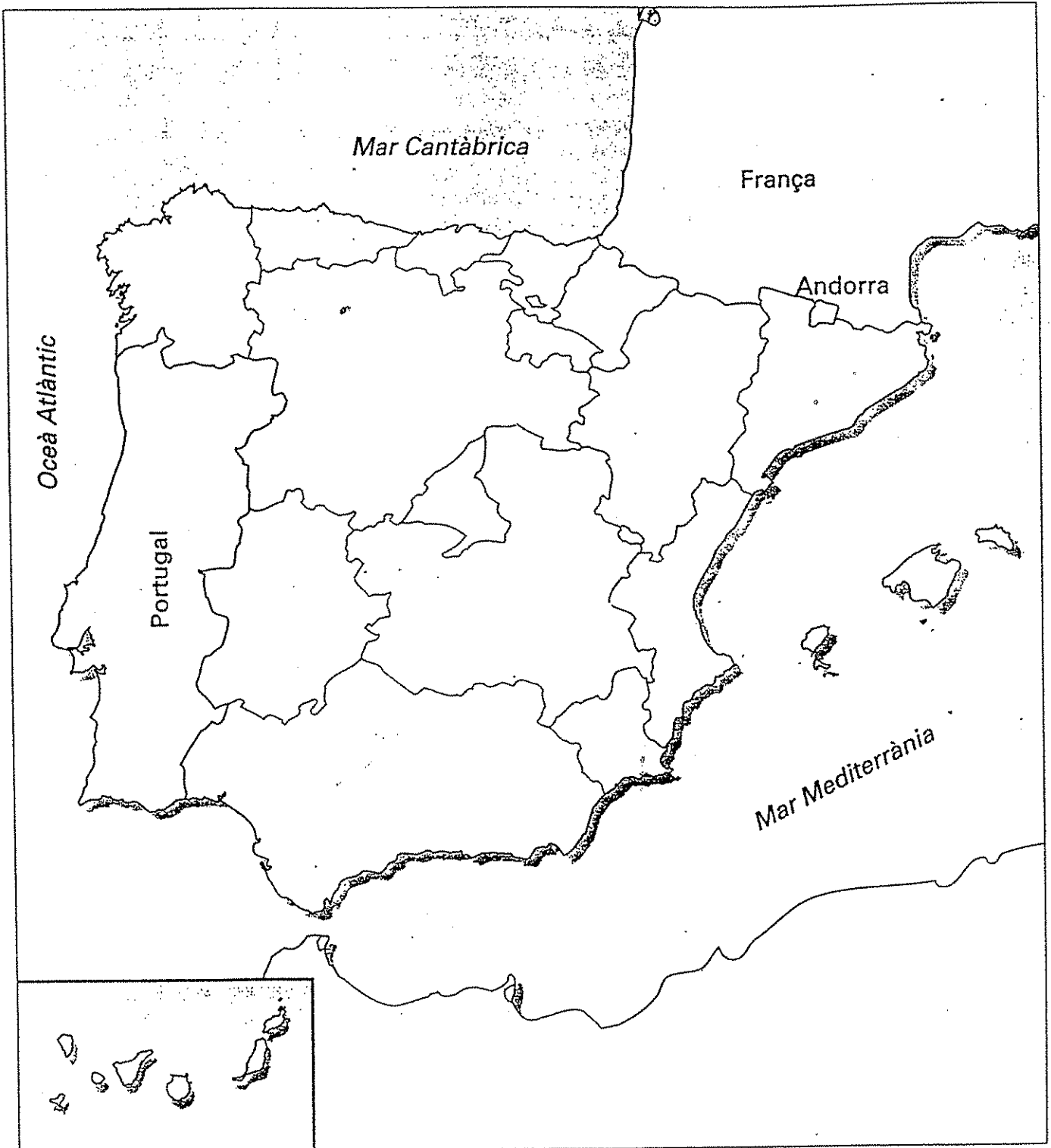
✓ Aquí tens la llista de les comunitats autònomes i les seves capitals.

COMUNITATS AUTÒNOMES	CIUTATS CAPITAL
Catalunya	Barcelona
Balears	Palma de Mallorca
Comunitat valenciana	València
Múrcia	Múrcia
Andalusia	Sevilla
Extremadura	Mèrida
Castella i Lleó	Valladolid
Galícia	Santiago de Compostel.la
Astúries	Oviedo
Cantàbria	Santander
Euskadi (País Basc)	Vitòria / Gasteiz
La Rioja	Logronyo
Navarra	Pamplona / Iruña
Aragó	Saragossa
Castella – La Manxa	Toledo
Madrid	Madrid
Canàries	Santa Cruz de Tenerife / Las Palmas de Gran Canària

✓ Observa el mapa de les comunitats autònomes i de les seves capitals:



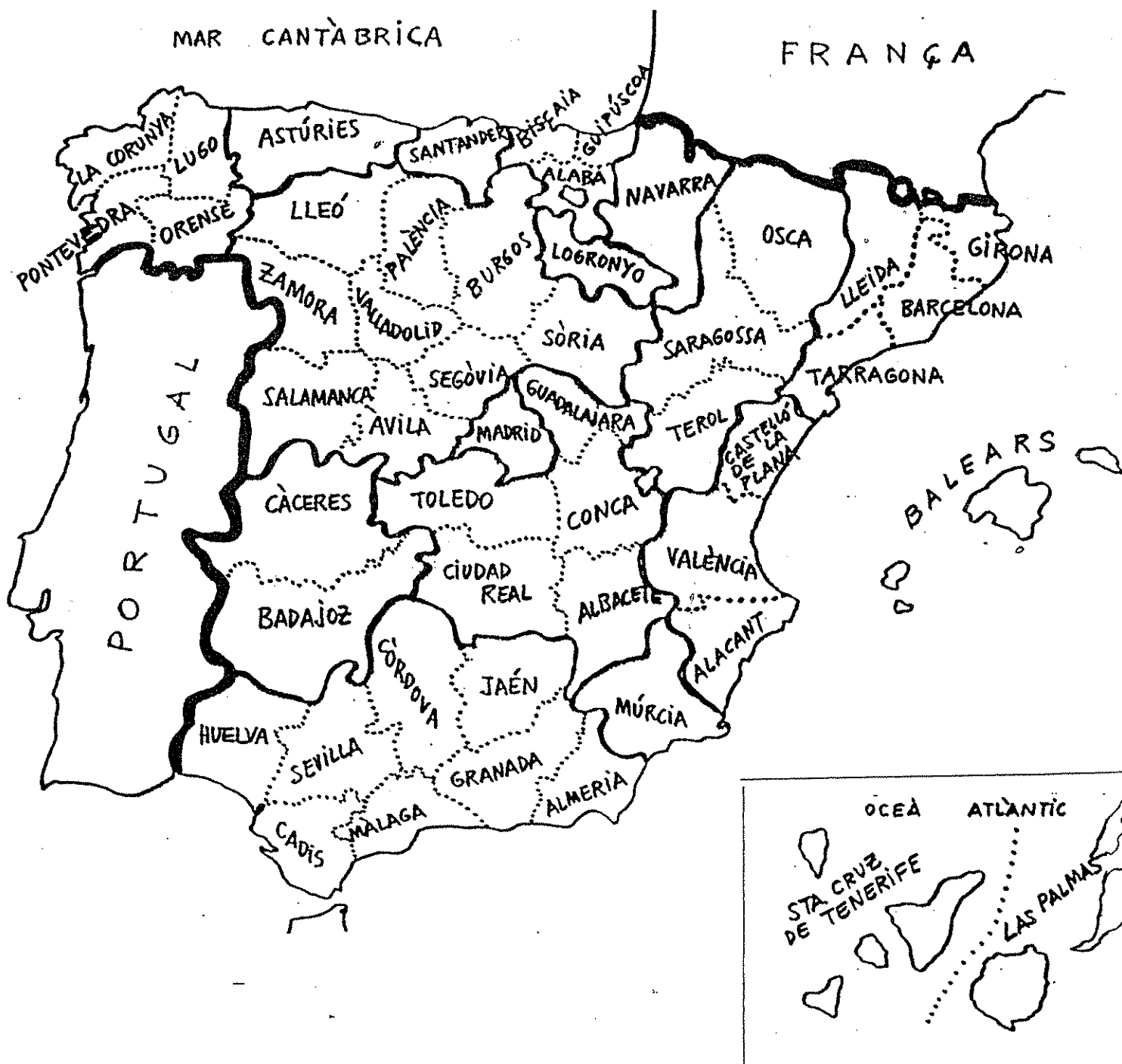
- ✓ Escriu en aquest mapa el nom de les comunitats autònomes que integren l'estat espanyol i situa les seves capitals.



RECORDA:

Les comunitats autònomes poden estar formades per una província o per més d'una.

- ✓ Observa el mapa d'Espanya i les seves províncies.
- ✓ Ressegueix cada comunitat autònoma (recorda que n'hi ha 17) amb un color diferent.



✓ Aquí tens la llista de les comunitats autònomes i les seves províncies:

COMUNITATS AUTONOMES	PROVINCIES
Catalunya	Girona
	Barcelona
	Tarragona
	Lleida
Balears	Balears (Menorca, Mallorca, Eivissa)
Comunitat valenciana	Castelló de la Plana
	València
	Alacant
Múrcia	Múrcia
Andalusia	Almeria
	Granada
	Màlaga
	Cadis
	Huelva
	Sevilla
	Còrdova
	Jaén
Extremadura	Càceres
	Badajoz
Castella i Lleó	Lleó
	Zamora
	Salamanca
	Àvila
	Segòvia
	Sòria
	Burgos
	Palència
	Valladolid
Galícia	La Corunya
	Lugo
	Orense
	Pontevedra
Astúries	Astúries
Cantàbria	Santander
Euskadi (País Basc)	Biscaia
	Guipúscoa
	Alaba
La Rioja	Logronyo
Navarra	Navarra
Aragó	Osca
	Saragossa
	Terol
Castella – La Manxa	Guadalajara
	Conca
	Albacete
	Ciudad Real
	Toledo
Madrid	Madrid
Canàries	Tenerife
	Gran Canària

ACTIVITATS

6. Observa el model i completa una frase per a cada comunitat:

Andalusia comprèn 8 províncies: *Almeria, Cadis, Còrdova, Granada, Jaén, Huelva, Màlaga i Sevilla.*

L'Aragó comprèn províncies:

Astúries comprèn província:

Canàries comprèn províncies:

Cantàbria comprèn província:

Castella i Lleó comprèn províncies:

Castella-la Manxa comprèn províncies:

Catalunya comprèn províncies:

La Comunitat Valenciana comprèn províncies:

Extremadura comprèn províncies:

Galícia comprèn províncies:

Les Illes Balears comprenen província:

La Rioja comprèn província:

Madrid comprèn província:

Múrcia comprèn província:

Navarra comprèn província:

El País Basc comprèn províncies:

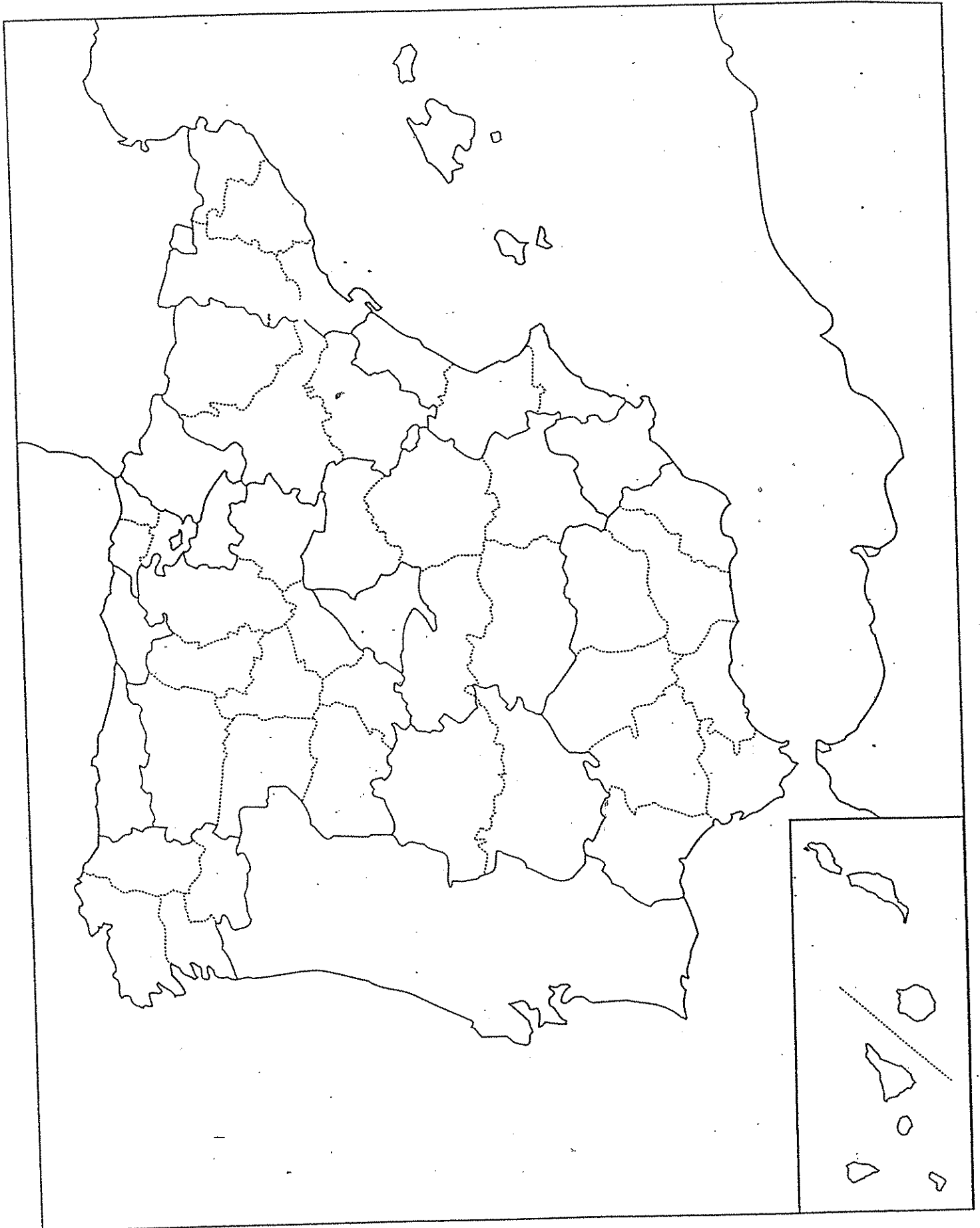
7. Escriu en el mapa de la pàgina següent el nom de cada província i pinta cada comunitat autònoma d'un color diferent.

8. Situa les ciutats de Ceuta i Melilla.

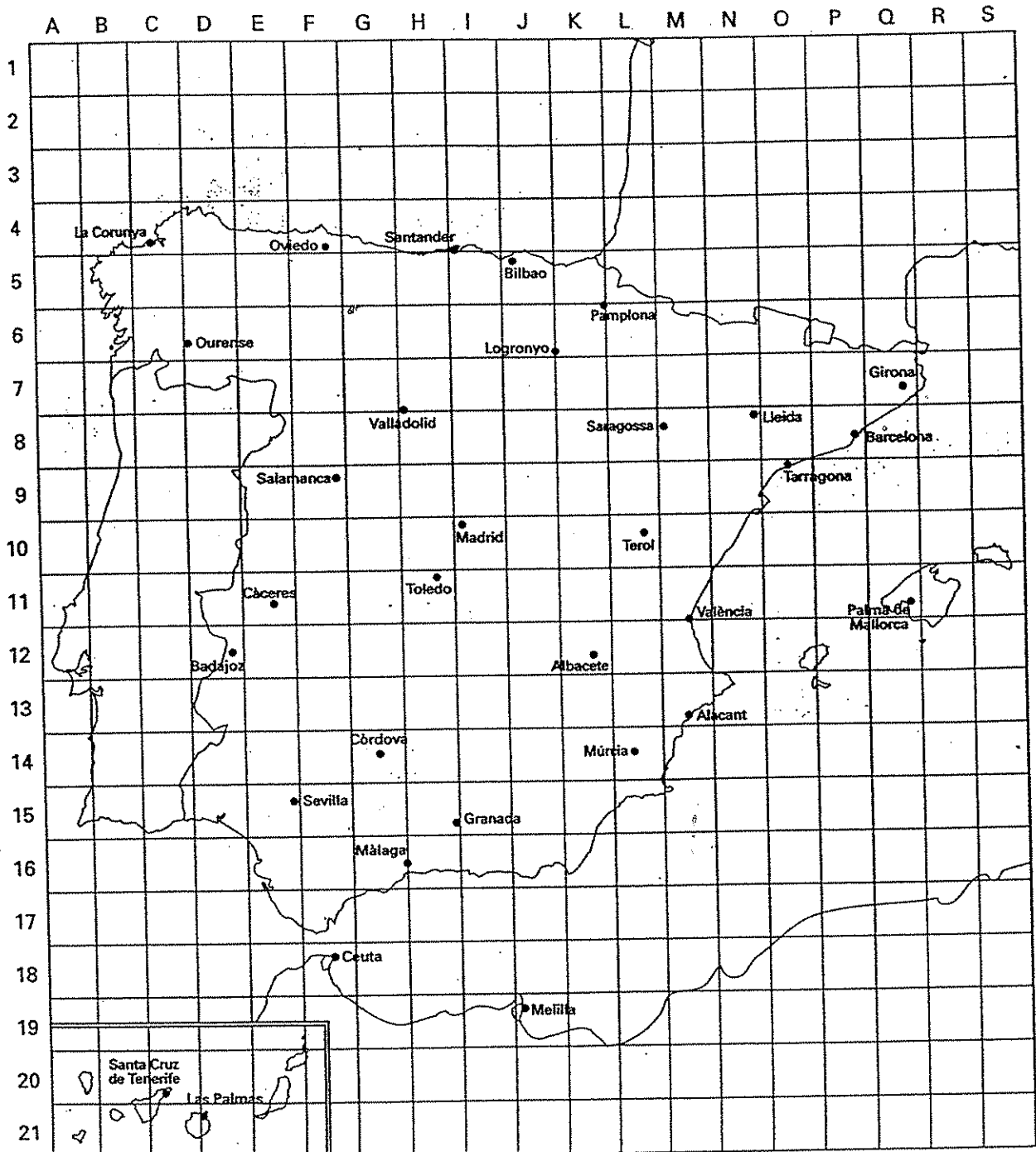
9. Utilitza aquestes pistes:

<i>Comunitat autònoma</i>	<i>Nombre de províncies</i>
Andalusia	8
Aragó	3
Astúries	1
Canàries	2
Cantàbria	1
Castella i Lleó	9
Castella-la Manxa	5
Catalunya	4
Comunitat Valenciana	3
Extremadura	2
Galícia	4
Illes Balears	1
La Rioja	1
Madrid	1
Múrcia	1
Navarra	1
País Basc	3

Àlaba - Alacant - Albacete - Almeria - Astúries - Àvila - Badajoz - Balears - Barcelona - Biscaia
 Burgos - Càceres - Cantàbria - Cadis - Castelló - Ceuta - Ciudad Real - Conca - Còrdova
 Girona - Granada - Guadalajara - Guipúscoa - Huelva - Jaén - la Corunya - la Rioja
 Las Palmas - Lleida - Lleó - Lugo - Madrid - Màlaga - Melilla - Múrcia - Navarra - Osca
 Ourense - Palència - Pontevedra - Salamanca - Santa Cruz de Tenerife - Saragossa
 Segòvia - Sevilla - Sòria - Tarragona - Terol - Toledo - València - Valladolid - Zamora



10. Observa la xarxa quadriculada del mapa amb els números i les lletres que hi ha als marges.



11. Localitza en el mapa les quadrícules següents i indica quina ciutat hi ha situada.

Localització	Ciutat
C, 4	La Corunya
L, 10	_____
D, 6	_____
Q, 11	_____
H, 15	_____
J, 19	_____
M, 13	_____

Localització	Ciutat
D, 21	_____
Q, 7	_____
H, 11	_____
I, 10	_____
J, 5	_____
F, 4	_____
G, 14	_____

— Digues en quina quadrícula es troben aquestes ciutats.

Ciutat	Localització
Barcelona	_____
Ourense	_____
Sevilla	_____
Badajoz	_____
Múrcia	_____
Ceuta	_____

Ciutat	Localització
Pamplona	_____
Lleida	_____
Sta. Cruz Tenerife	_____
Santander	_____
Tarragona	_____
Salamanca	_____

— Indica l'itinerari que seguiries en passar per aquests punts.

D'E, 15 a C, 4:

De F, 9 a N, 8:

De O, 11 a D, 6:

De J, 5 a L, 14:

De M, 13 a F, 4:

12. Relaciona:

COMUNITAT

Catalunya

Balears

Madrid

Andalusia

Valenciana

Aragó

País Basc

CIUTAT

Saragossa

Barcelona

Palma de Mallorca

València

Madrid

Sevilla

Vitòria

13. Omple els espais amb la província o províncies que falten:

CATALUNYA

LLEIDA TARRAGONA

COMUNITAT VALENCIANA

CASTELLÓ DE LA PLANA
--

GALÍCIA

LA CORUNYA LUGO

EXTREMADURA

..... BADAJOZ

PAÍS BASC

..... ÀLABA

ANDALUSIA

JAÉN HUELVA ALMERIA CADIS
--

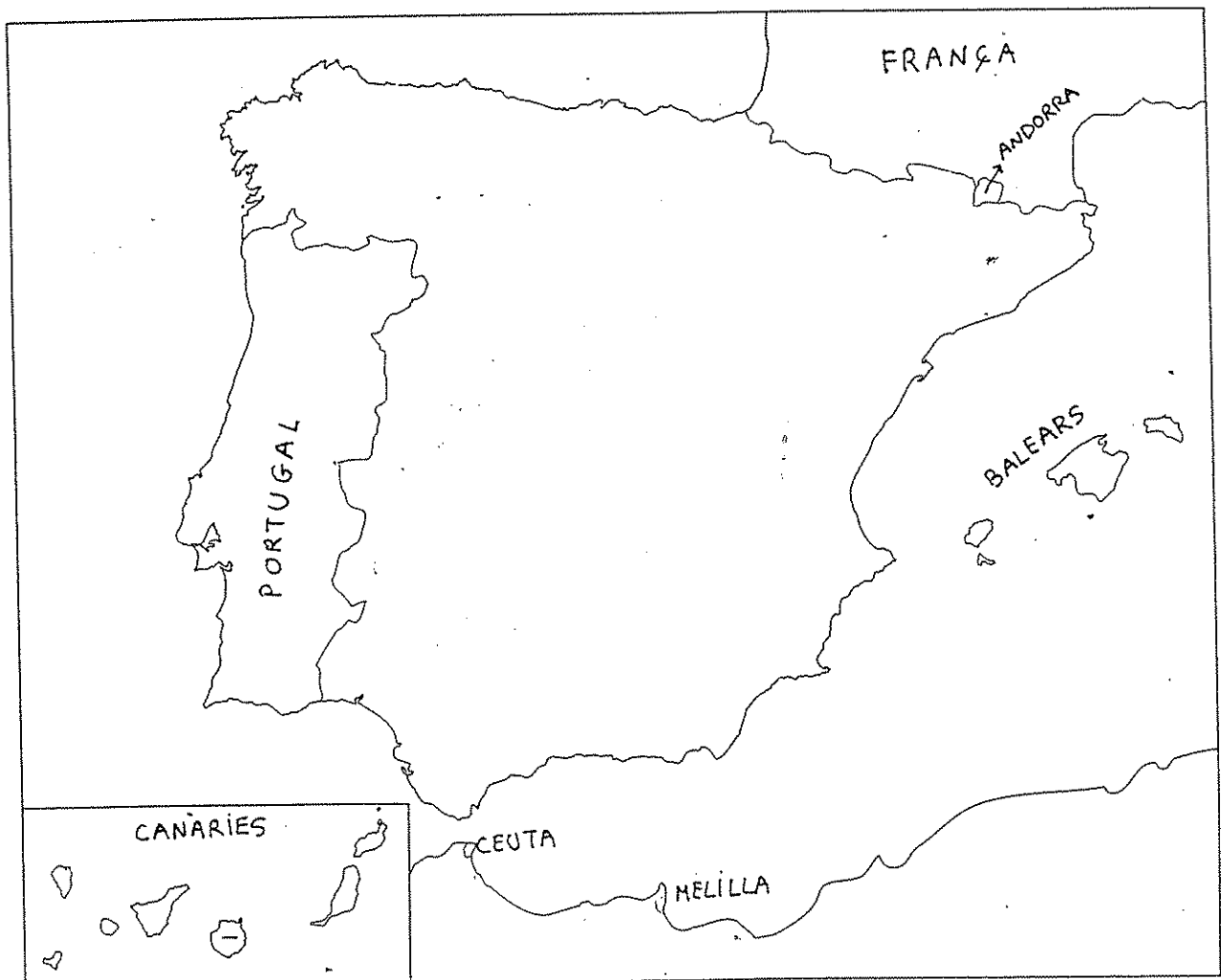
ESPANYA FÍSICA

Espanya és l'Estat més gran de la Península Ibèrica.

Comprèn també:

- ⇒ els arxipèlags de les **Balears**, a la mar Mediterrània
- ⇒ els arxipèlags de les **Canàries**, a l'oceà Atlàntic
- ⇒ les ciutats de **Ceuta** i **Melilla**, al nord d'Àfrica.

Els seus límits són marcats per les fronteres amb els estats de Portugal, Andorra i França.



EL RELLEU.

Per poder aprendre el relleu d'Espanya l'hem dividit en:

- ⇒ La Meseta
- ⇒ Serralades exteriors
- ⇒ Depressions
- ⇒ Relleu insular

LA MESETA

La Meseta és un altiplà molt gran situat a la part central de la península

Travessen la Meseta:

- ✓ El **Sistema Central**, que la divideix en dues parts, i els **Monts de Toledo**
- ✓ La Meseta està envoltada de muntanyes per totes bandes, excepte per l'oest:
 - Al nord, per les **Muntanyes de Lleó** i la **Serralada Cantàbrica**
 - A l'est, per la **Serralada Ibèrica**
 - Al sud, per la **Sierra Morena**

SERRALADES EXTERIORS

- **Massís Galaic**
- **Muntanyes Basques**
- Els **Pirineus**, amb el pic de l'**Aneto**
- **Serralades Bètiques** (**Sierra Nevada**, amb el pic més alt de la península Ibèrica: el **Mulhacén** (3478m))

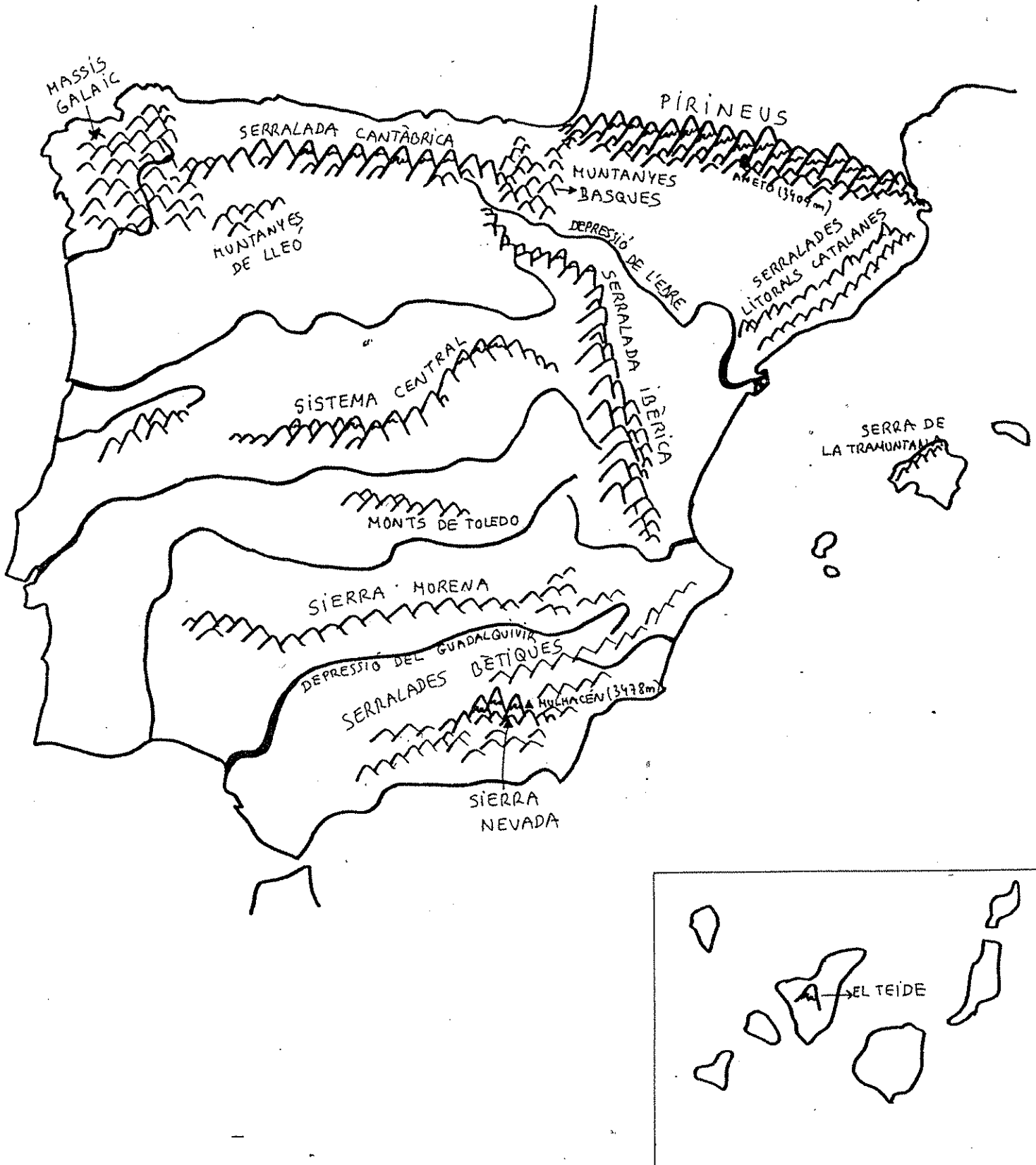
DEPRESSIONS

- La del riu **EBRE** que està orientada cap a la Mediterrània i la recorren el riu Ebre i els seus afluents
- La del riu **GUADALQUIVIR**: és una plana recorreguda per aquest riu.

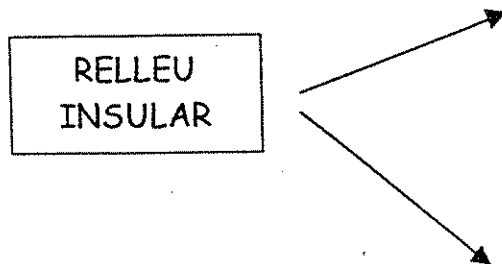
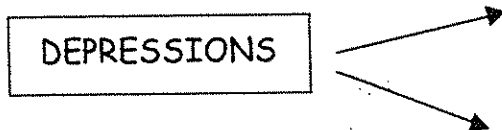
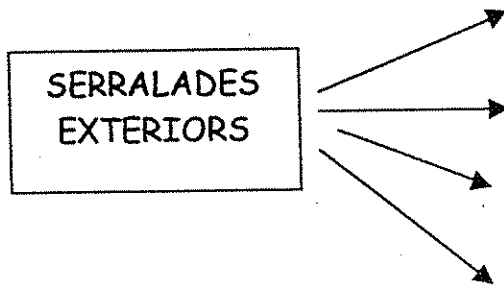
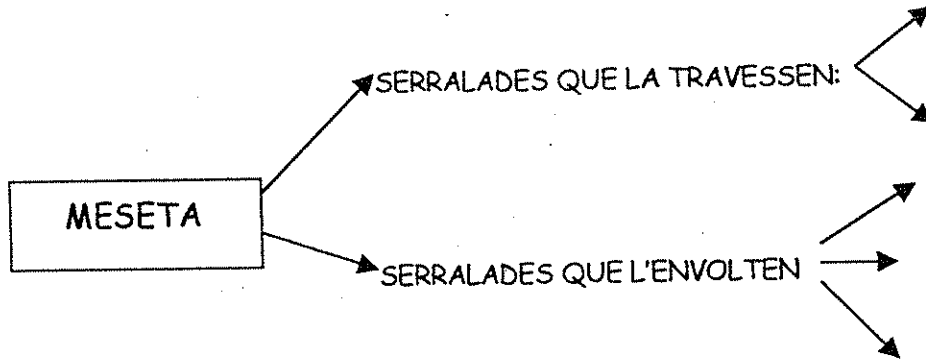
RELLEU INSULAR

- A l'illa de Tenerife es troba el pic més alt d'Espanya, el **Teide**, que és un volcà amb 3718m d'altitud
- A les illes Balears trobem una serra important: la **serra de la Tramuntana** a l'illa de Mallorca

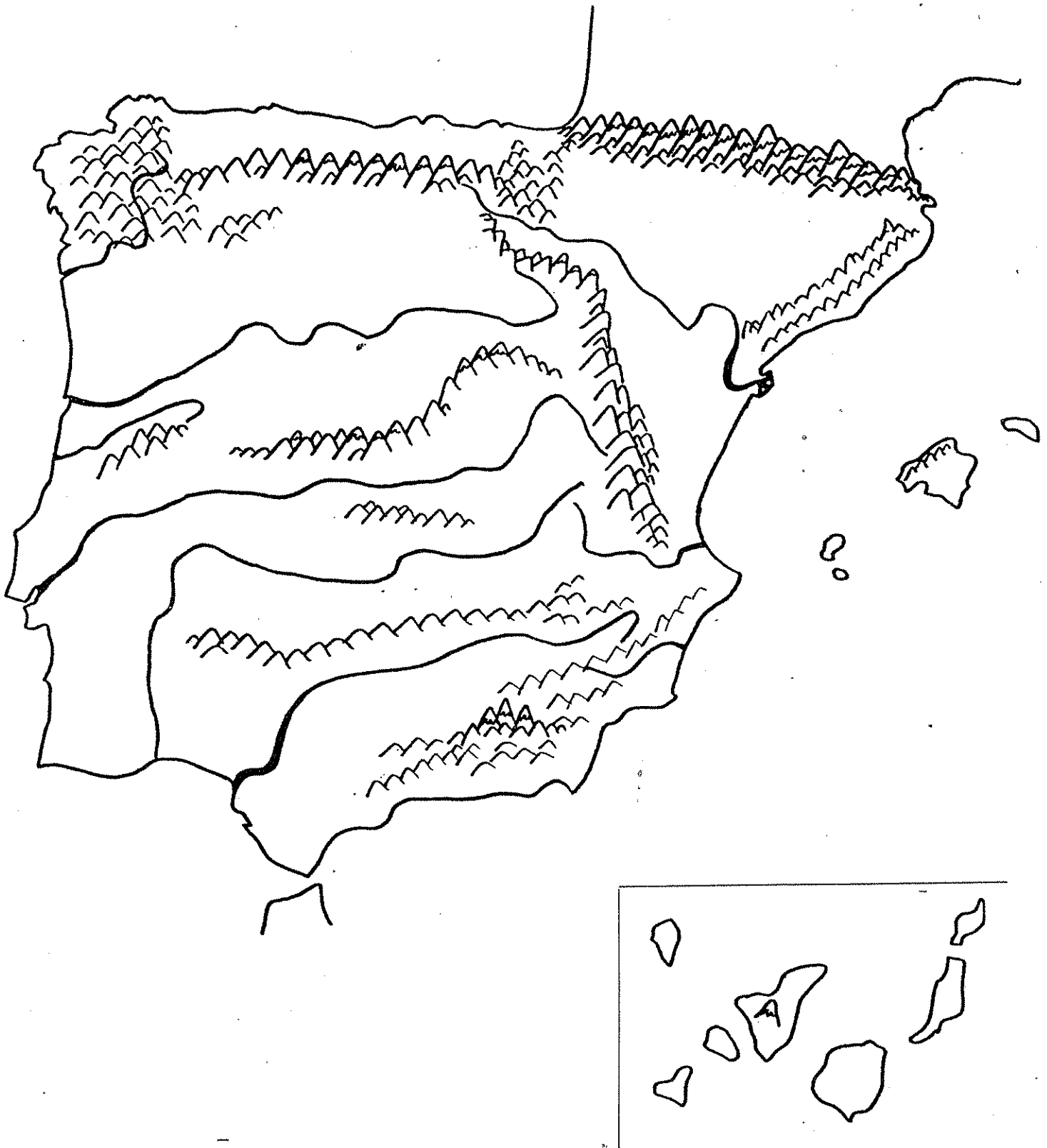
✓ Observa el relleu d'Espanya:



14. Completa el següent quadre:



15. Omple el següent mapa amb el nom de les serralades més importants.



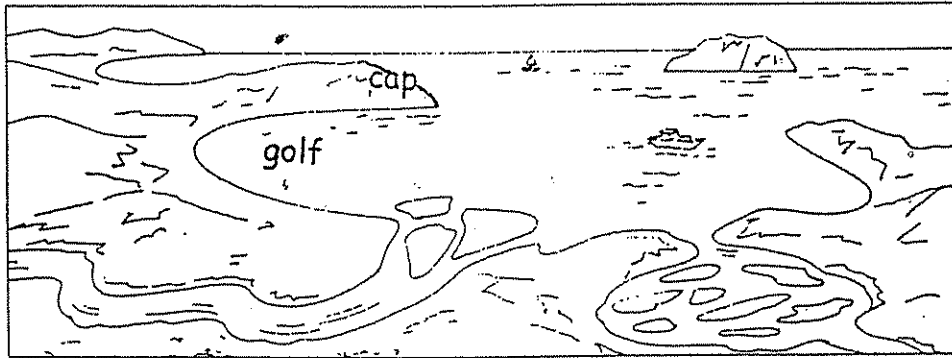
LES COSTES

La península Ibèrica està banyada:

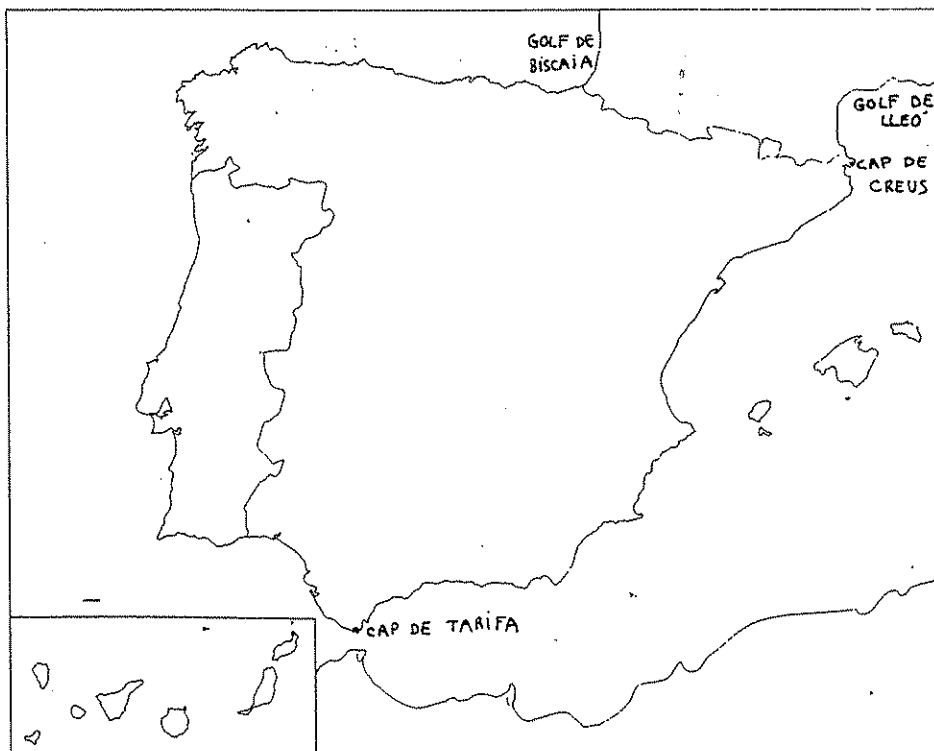
- ⇒ Al nord, per la mar Cantàbrica
- ⇒ A l'oest, per l'oceà Atlàntic
- ⇒ A l'est, per la mar Mediterrània

L'oceà Atlàntic i la mar Mediterrània es comuniquen al sud de la península Ibèrica per l'estret de Gibraltar.

RECORDA:



- ✓ Observa al mapa alguns dels golfs i caps més importants:
 - Cap de Tarifa, Cap de Creus
 - Golf de Lleó i golf de Biscaia

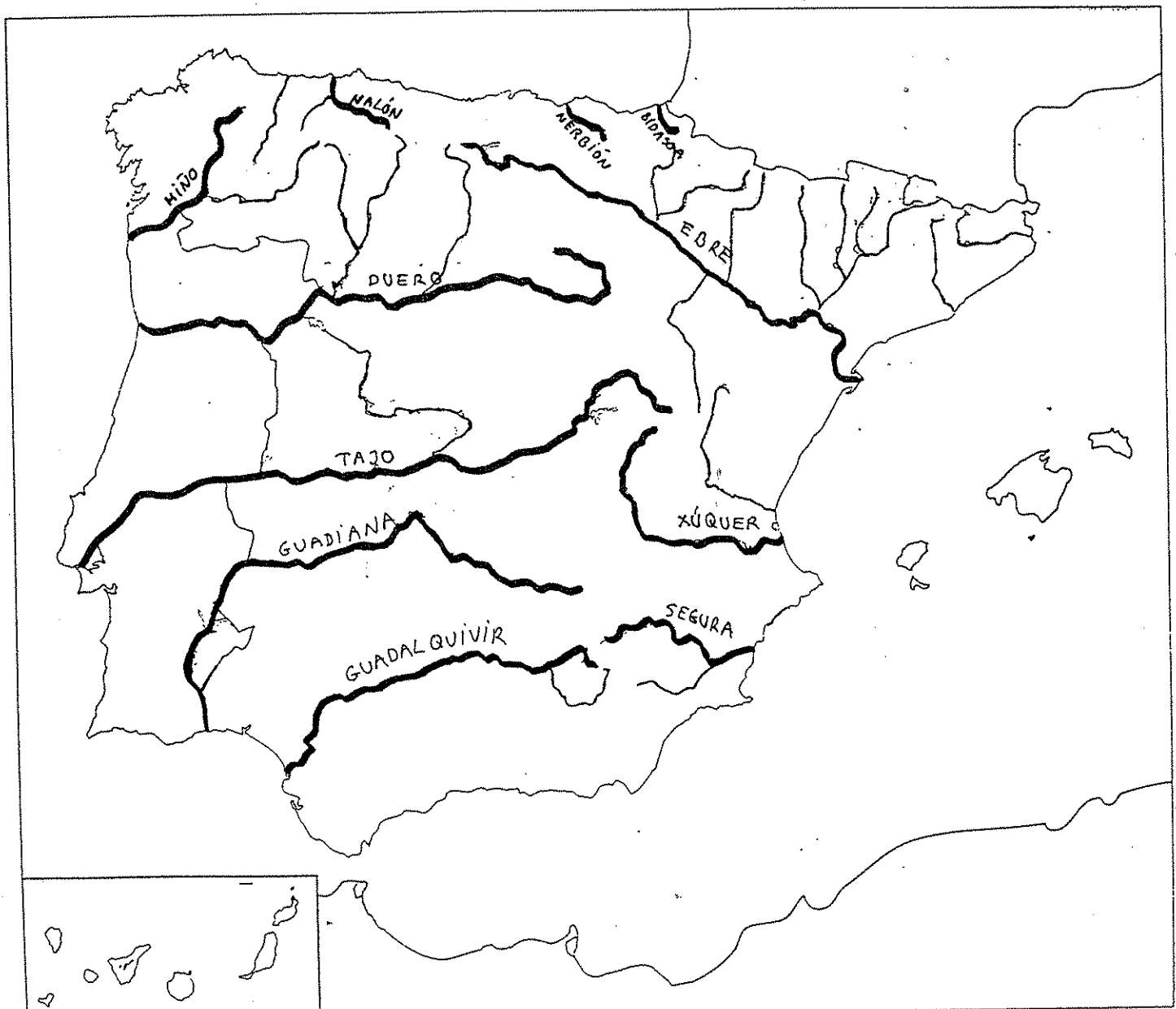


ELS RIUS

La majoria dels rius d'Espanya neixen a les muntanyes més altes i desemboquen als tres mars que envolten la península. Per això diem que els rius de la Península Ibèrica s'organitzen en tres vessants:

- ⇒ el **vessant mediterrani**: l'Ebre, el Xúquer i el Segura
- ⇒ el **vessant atlàntic**: el Miño, Duero, Tajo, Guadiana i Guadalquivir
- ⇒ el **vessant cantàbric**: el Bidasoa i el Nerbión al País Basc, el Nalón a Astúries

✓ Observa el mapa i pinta de color blau els rius. Aprèn els seus noms:



16. Situa en aquest mapa les següents unitats de relleu. Pinta-les de color marró clar.

Meseta - Sistema Central - Muntanyes de Lleó - Serralada Cantàbrica -
 Serralada Ibèrica - Sierra Morena - Massís Galaic - Muntanyes Basques -
 Els Pirineus - Serralades Bètiques - Depressió de l'Ebre -
 Depressió del Guadalquivir

- ✓ Escriu el nom dels principals rius, mars, illes i oceans que banyen les costes de la península Ibèrica. Pinta'ls.
- ✓ Situa el golf de Lleó, el golf de Biscaia, el cap de Tarifa i l'estret de Gibraltar.



17. Contesta:

- Quins estats limiten Espanya?
- Quin és l'altiplà més gran situat a la part central de la península?
- Quin és el pic més alt de la península Ibèrica? A quina serralada es troba?
- Quin és el pic més alt d'Espanya? A quina illa es troba?
- Quins mars i oceans banyen la península Ibèrica?
- Com s'anomena l'estret per on es comuniquen l'oceà Atlàntic i la Mar Mediterrània?
- Digues el nom dels rius més importants del vessant atlàntic.
- Quin és el riu més important del vessant mediterrani?
- Digues el nom de 2 serralades exteriors.
- Digues el nom de les dues depressions més importants.
- Digues el nom de dues serralades que envolten la Meseta.