

***CONeixEMENT DEL MEDI
NATURAL, SOCIAL I CULTURAL***

TEMA 14 (catorze)

**La teva
història**

Nom i cognoms.....

3r curs

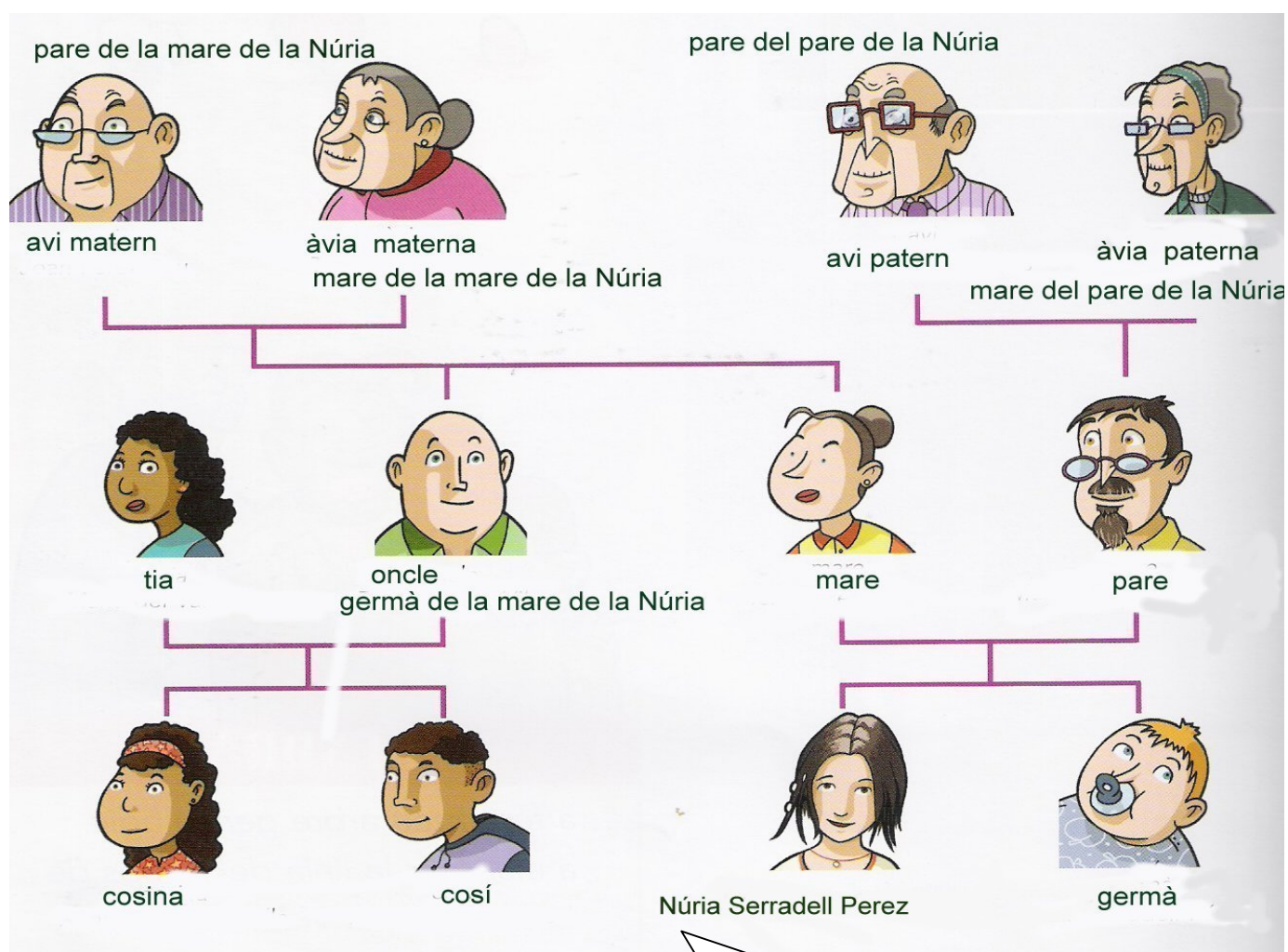
L'ARBRE GENEALÒGIC

L'arbre genealògic és la representació dels membres d'una família i els seus avantpassats.



Hola! Jo sóc la Núria. Ara et presento la meua família

Arbre genealògic de la família de la Núria



El meu nom és Núria i els meus cognoms són Serradell Pérez



Quins són els cognoms de la Núria ?

.....

El primer (1r) cognom és el del seu pare: *Serradell* i el segon (2n)cognom és el de la seva mare: *Pérez*.



Escriu el teu nom i cognoms

.....



Mira l'arbre genealògic de la pàgina 210 del llibre i contesta les preguntes sobre la família de la Núria :

1. Com es diu el seu cosí ?

El cosí de la Núria es diu

.....

2. Qui és la Teresa Pérez Vila ?

.....

3. Posa el nom de l'àvia materna de la Núria

.....

4. Completa

L'oncle de la Núria és el germà de la seva i es diu

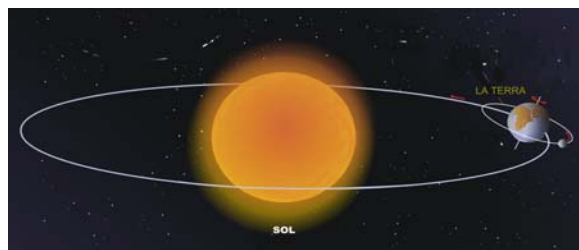
.....

LA MESURA DEL TEMPS

Per mesurar el temps utilitzem **el dia**.
És el temps que triga la Terra en fer un gir complet al seu voltant.



També utilitzem **l'any**
que és el temps que triga la Terra en fer el seu camí complet al voltant del sol.
 Un any dura 365 dies



Aquestes mesures s'escriuen en un calendari anual dividit en 365 dies, agrupats en 12 mesos.

| | |
|--|--|
| <p>dia</p> | <p style="text-align: center;">CALENDARI 2009</p> <p>mes</p> |
| <p>Aquí tens un mes del calendari. Cada quadrat es un dia. El mes de setembre te 30 dies.</p> | <p>Aquí tens un calendari amb el 12 mesos de l'any. Cada any porta una numeració segons la cultura del país.</p> |



Què és un any ?

És el temps.....



Què és un dia ?

És el temps.....

Dintre del mes dividim el temps en setmanes de 7 dies.

Dilluns, dimarts, dimecres, dijous, divendres, dissabte i diumenge



El mes acostuma a tenir 4 setmanes senceres i alguns dies. A la nostra cultura el dia festiu és el **diumenge** i en el calendari està dibuixat en un altre color. Els altres dies festius també estan marcats com els diumenges.



Si mires aquest mes d'agost del dibuix, sabries dir quin dia festiu marca el calendari ?

.....



Escriu la data completa d'avui : dia de la setmana, dia del mes, mes i any.

.....



Quin dies de la setmana són festius al teu país ?

.....

Hi ha mesures de temps **més grans que l'any**.

| |
|--------------------------------------|
| 1 segle = 100 anys |
| 1 mil·leni = 1000 anys |

En la nostra cultura utilitzem la numeració romana per indicar el segle en que vivim. Els romans escrivien els nombres amb lletres.

| | | | | | |
|------------------|-----------------|-----------------|-----------------|------------------|-------------------|
| 1 = I | 2 = II | 3 = III | 4 = IV | 5 = V | 6 = VI |
| 7 = VII | 8 = VIII | 9 = IX | 10 = X | 11 = XI | 12 = XII |
| 13 = XIII | 14 = XIV | 15 = XV | 16 = XVI | 17 = XVII | 18 = XVIII |
| 19 = XIX | 20 = XX | 21 = XXI | | | |

Ara **estem al segle XXI** (vint-i-u) i al segon (2n) mil·leni.




Mira la taula i escriu els següents segles amb nombres romans

segle quinze (15)=
segle dos (2)=

segle onze (11)=
segle vint (20)=

També hi ha mesures **més petites que el dia**

| | |
|--|--|
| Dividim el dia en 24 hores. Les hores en 60 minuts. Els minuts en 60 segons. |  |
|--|--|

hores minuts segons

Tots aquest temps s'indiquen amb el rellotge. El rellotge marca el temps amb les busques, que es van movent per la seva esfera.

Nom:

Data:

Un any té dotze (12) mesos.

Un mes pot tenir 30, 31 o 28 dies.

Estem al segle XXI (vint-i-ú).

La setmana té set (7) dies.

El diumenge és un dia festiu.

El dia té vint-i-quatre (24) hores.

LA HISTÒRIA PERSONAL

La història personal està formada per totes les coses que ens han passat a la nostra vida.

La nostra vida comença amb el naixement, que celebren cada any el dia del nostre aniversari.

La Núria està celebrant el seu aniversari amb la família.

Es típic posar un **pastís** amb **espelmes**.

Es posa una espelma per cada any i després es bufa per apagar-les totes.



Sabries dir quants anys fa la Núria?

.....



Quins membres de la família estan al dibuix amb la Núria? (si no ho recordes pots consultar l'arbre genealògic del llibre)

La Núria està amb

.....



Quin és el dia del teu aniversari?

.....

Quants anys faràs?

Al meu aniversari faré



Aquí tens unes fotografies de moments importants de la vida de la Núria. Posa al costat el nombre d'ordre que creus que tenen. Pots consultar el llibre (pàgina 215) si tens dubtes.

1a (primera) 2a (segona) 3a (tercera) 4a (quarta) 5a (cinquena)

| | |
|--|-------|
| | |
| | |
| | |
| | |
| | |



Quina és la foto més antiga?



Quina és la foto més recent?

.....